

علم برای


کودکان

و نوجوانان


شگفتیهای ریاضیات

نوشته استرهاریس هایلند و هارولد جوزف هایلند

تصویرها: والتر فرگوسن ترجمه عباس خیرخواه



شگفتیهای ریاضیات



نویسنده: استر هاریس هایلند

و

هارولد جوزف هایلند

ترجمه: عباس خیرخواه

تصاویر: والتر فرگوسن

زیر نظر: فریدون بدره‌ای



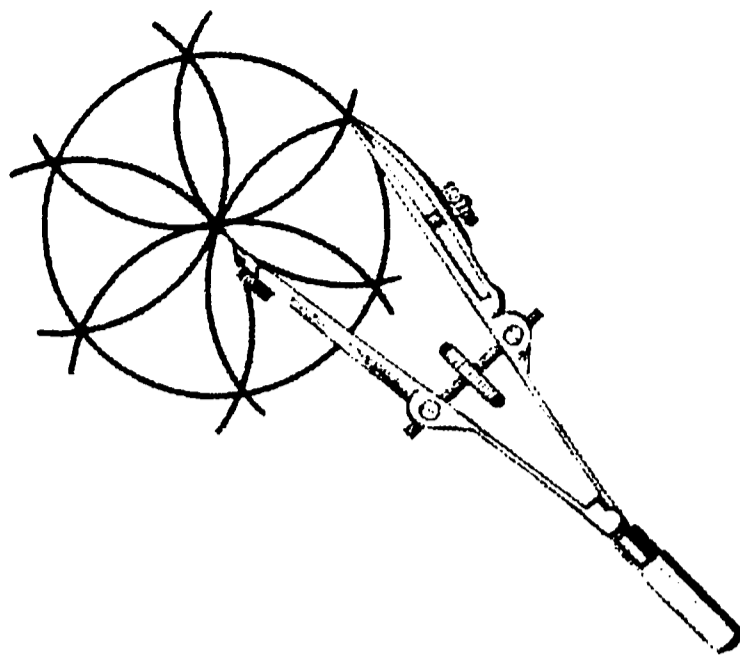
با همکاری مؤسسه انتشارات امیرکبیر

چاپ اول: ۱۳۴۹

چاپ دوم: ۱۳۵۷

چاپ و صحافی: چاپخانه سپهر، تهران

حق چاپ محفوظ است.



مقدمه

اگر بخواهید بفهمید يك گوگل چیست ، کجا سراغ آن را می‌گیرید ؟ در يك باغ وحش ؟ از يك تلسکوپ ؟ در يك چاه عمیق ؟ نه ، به يك کتاب ریاضی مراجعه می‌کنید . ریاضیات نه تنها بخودی خود يك علم است بلکه يك وسیله مهم علمی نیز هست .

در کتاب شگفتیهای ریاضیات از جزئیات حساب ، جبر ، هندسه و دیگر رشته‌های ریاضی بحث نمی‌شود بلکه بطور کلی گفته می‌شود که ریاضی چیست ، چگونه در طول تاریخ پیشرفت کرده است ، و رشته‌های مختلف آن در چه راههایی مورد استفاده قرار گرفته است . این کتاب خواننده را از زمان اختراع اعداد ، از زمانی که شمردن بیش از ۲ برای آدمیان نخستین کار مشکلی بوده است تا زمان حاضر که شگرفترین مسائل کیهان به وسیله ریاضیات حل می‌شود سیر می‌دهد .

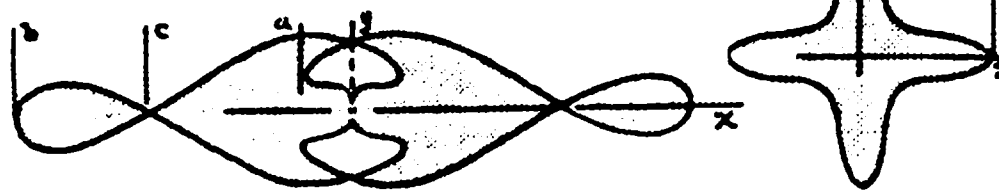
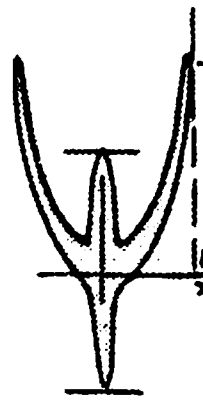
در این کتاب به دهها سؤال جالب پاسخ داده شده است : چگونه ستارگان در پیشرفت ریاضیات دخالت داشته‌اند؟ صفر از چه موقعی بکار برده شده است؟ چگونه می‌توانید با ساعتان جهت یابی کنید؟ چگونه می‌توانید رمزها را کشف کنید؟


ریاضیات افزاری است که مرتباً در حال تغییر و پیشرفت است و در راههای جدیدی مورد استفاده آدمی قرار می‌گیرد . در کتاب شگفتیهای ریاضیات از بعضی از این راههای جدید بحث می‌شود . مسلماً توجه دانش پژوهان و ریاضیدانان جوان را جلب خواهد نمود . این کتاب همراه با کتابهای دیگر از همین سلسله ، هم در خانه و هم مدرسه در خور استفاده بسیار تواند بود .



فهرست

صفحه		صفحه	
۲۵	ارمغان یونانیان به علم ریاضیات	۴	زبان ریاضیات
۲۵	چگونه می‌توانید بلندی‌ها را اندازه بگیرید؟	۴	چگونه ریاضیدانان باهم تبادل اندیشه می‌کنند؟
۲۶	قضیه فیثاغورت چیست؟	۵	یک گوگل چیست؟
۲۷	چگونه برای اولین بار اندازه زمین محاسبه شد؟	۶	عدد اول چیست؟
۲۷	چه موقع انسان فاصله زمین تا ماه را اندازه گرفت؟	۶	جبر و حساب چه فرقی با هم دارند؟
۲۸	اعداد مثلث کدامند؟	۶	هندسه مسطحه چیست؟
۲۸	اعداد مربع کدامند؟	۷	چند ضلعی یا کثیرالاضلاع چیست؟
۲۹	عدد کامل چیست؟	۹	چهار ضلعی چیست؟
۲۹	از ارقام رومی تا ارقام عربی	۱۰	دایره چیست؟
۲۹	چگونه می‌توانید عمل ضرب را با انگشت انجام دهید؟	۱۰	هندسه فضایی چیست؟
۳۰	کارچرتکه چگونه است؟	۱۱	نشانه‌ها و علامتها و تعریفهای ریاضی
۳۱	رومی‌ها چگونه ضرب می‌کردند؟	۱۱	اصطلاحات ضرب
۳۱	بزرگترین ارمغان هندیان به علم ریاضی چه بود؟	۱۲	اصطلاحات تقسیم
۳۳	رمز و معما	۱۲	اصطلاحات کسر
۳۳	یناوه خباره زمرنه یا بنه اوتیم؟	۱۲	جذر، ریشه و قوه چیست؟
۳۴	چطور می‌توانید مربع رمز درست کنید؟	۱۲	ارقام و اعداد
۳۴	حساب رمزی چیست؟	۱۳	عدد چیست؟
۳۵	حسابگرهای الکترونیکی	۱۴	انسان نخستین چگونه می‌شمرد؟
۳۶	حسابگر رقمی و حسابگر قیاسی	۱۴	انسان از چه وقتی ارقام را به کار برد؟
۳۷	ماشین حساب چگونه کار می‌کند؟	۱۴	مردمان باستانی چگونه می‌نوشتند؟
۳۷	روش دوتایی چیست؟	۱۵	نوشتن یک میلیون چقدر وقت لازم دارد؟
۳۹	ریاضیات عصر فضا	۱۵	در قدیم اعداد بزرگ را چگونه می‌نوشتند؟
۳۹	مسائل فضایی ریاضیات چیست؟	۱۷	چرا ارقام مهم هستند؟
۴۱	چگونه جاذبه در پرواز اثر می‌گذارد؟	۱۷	ریاضیات در تاریخ قدیم
۴۲	چه چیز یک ماهواره را در آسمان نگه می‌دارد؟	۱۷	چگونه مردم قدیم زمان را اندازه می‌گرفتند؟
۴۴	نمودار چیست؟	۱۸	ساعت آفتابی چیست؟
۴۵	شانس شما تا چه اندازه است؟	۱۸	اولین ریاضیدانان چه کسانی بودند؟
۴۵	احتمال چیست؟	۱۸	طول یک ذراع چقدر است؟
۴۵	آیا خوش شانس هستید؟	۱۹	چطور گوشه یا نبش یک دیوار را می‌سازید؟
۴۵	مثلث پاسکال چیست؟	۲۰	مصریان مساحتها را چگونه اندازه می‌گرفتند؟
۴۶	ریاضیات جدید	۲۱	ریاضیدانان بین‌النهرین چه کسانی بودند؟
۴۶	توپولوژی یا مکان‌شناسی چیست؟	۲۱	از چه موقع اعشار به کار رفت؟
۴۶	حلقه مویوس چیست؟	۲۱	صفر را چه کسی اختراع کرد؟
	در چه وقتی خط راست، خط راست به حساب نمی‌آید؟	۲۲	دستگاه ۶ تایی یا ستینی چیست؟
۴۷	در مورد محالات چه می‌کنید؟	۲۲	در یانوردان، خورشید و ستارگان
۴۷	برای رنگ کردن یک نقشه به چند رنگ احتیاج دارید؟	۲۲	فبقی‌ها چگونه در یانوردی می‌کردند؟
۴۸	ریاضیات تا کجا به پیش می‌رود؟	۲۳	چگونه می‌توانید بفهمید که فاصله شما تا افق چقدر است؟
۴۸		۲۴	چگونه می‌توانید از ساعتان بجای قطب‌نما استفاده کنید؟






زبان ریاضیات

وقتی این کتاب را باز می‌کنید مسافرتی به دنیای ریاضیات آغاز می‌کنید. ریاضیات در طول تاریخ خود هیچگاه چون امروز جالب و هیجان‌انگیز نبوده است. در زمان ما کشفیات بزرگ و دگرگونی‌های مهم خیلی سریعتر از گذشته صورت می‌گیرد.

چگونه ریاضی دانان باهم تبادل اندیشه می‌کنند؟

اگر به سرزمین جدیدی مسافرت کنید که به زبان مردم آن آشنا نباشید و ندانید در آنجا چه می‌گذرد سفر برایتان هیچ لذتی نخواهد داشت. تبادل نظرهای ریاضی روزگاری، حتی در بین ریاضی دانان، مشکلی بود، ولی آنان با اختراع زبان مخصوصی این مشکل را از میان برداشتند. در چند صفحه آینده شما با معانی علایم، و نشانه‌ها و کلماتی که برای فهمیدن ولت بردن

ریاضیات نقشی حیاتی در تاریخ بشر داشته است و بخشی عمده از میراث فرهنگی ما است. بشر به خاطر تجارت، شمارش، دریانوردی، پرواز، و ساختن ماهواره و پرتاب آن به فضا مجبور به یادگرفتن ریاضی بوده است.



بسیار دارد . بیش از ۵۰۰۰ سال قبل ، مصریان قدیم
 به جای کلمات از علامت استفاده می کردند .
 امروز نیز تند نویسان همین کار را می کنند ،
 هر چند علاماتی که به کار می برند به کلی مختلف است .
 تند نویسی ریاضی راهی است برای کوتاه و دقیق نوشتن
 کمتهای ریاضی . معنای ∞ **گوگل** چیست ؟
 به زبان معمولی یعنی گوگل کمتر است از بینهایت .
 علامت ∞ (هفت فارسی) که به پهلوی راست چرخیده
 است و به این شکل \angle در آمد یعنی «کوچکتر
 است از» . علامت « ∞ » یعنی بینهایت ، و آن عددی
 است بزرگتر از هر چه که ما بگوئیم و به فکرمان برسد .

گوگل عدد يك است با صد صفر در جلو آن یعنی :

۱۰۰۰
 ۰۰۰۰۰۰۰۰۰۰۰۰۰۰۰۰۰۰۰۰۰۰۰۰۰۰۰۰۰۰۰۰۰۰۰۰
 ۰۰۰۰۰۰۰۰۰۰۰۰۰۰۰۰۰۰۰۰۰۰۰۰۰۰۰۰۰۰۰۰۰
 ۰۰۰۰۰

این عدد آنقدر بزرگ است که از تعداد تمام دانههای

از این کتاب بدانها نیازمندید آشنا خواهید شد . و در
 حال حاضر نیز بسیاری از آنها را می دانید و احتیاجی
 به حفظ کردنشان نیست . فقط آنها را بخوانید ، و در ضمن
 مطالعه نیز هر وقت به علامت یا کلمه نا آشنایی رسیدید به
 این صفحات مراجعه کنید . خواهید دید که خیلی زود
 هم در آنجا خواهید گرفت . با وجود اینکه ممکن است
 زبان ریاضی نا آشنا به نظر برسد ولی فهمش آسان
 است .

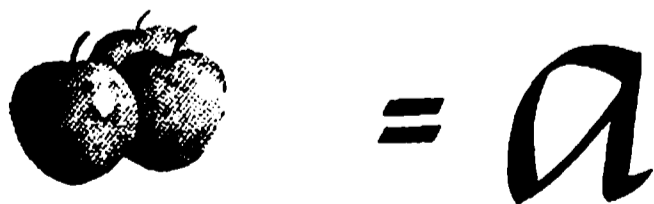
يك گوگل چیست ؟

اگر در حین عبور از خیابان قطعده کاغذی پیدا
 کنید که روی آن نوشته شده باشد ∞ **گوگل**
 آیا می توانید بفهمید که این يك نوع خلاصه نویسی
 ریاضی است ؟ فکر استفاده از خلاصه نویسی یا بکار
 بردن علامت بجای کلمات ، خیلی قدیمی است و رواج

و در عین حال عملی‌ترین راه است .

یکی از تفاوت‌های جبر و حساب این است که در جبر ما هم عدد و هم حرف به کار می‌بریم . در جبر ما می‌توانیم بگوییم : صندوق سیب $a = 1$ و اگر مردی ده صندوق سیب داشته باشد می‌توانیم بنویسیم $10a$. توجه داشته باشید که علامت ضرب بین عدد و حرف را حذف کردیم . همیشه حروف نماینده اعداد هستند . چنانچه مقدار (مثلاً تعداد سیب‌ها در مثال بالا) را بدانیم معمولاً بجای آنها a ، b و c می‌گذاریم و اگر مقدار را ندانیم معمولاً به جای آنها x ، y و z به کار می‌بریم . جبر به ما کمک می‌کند تا از روی مقادیر معلوم مقادیر نامعلوم را پیدا کنیم . یکی دیگر از تفاوت‌های اساسی جبر و حساب تعداد عملیاتی است که به کار می‌بریم . در حساب ما از چهار عمل اصلی جمع، تفریق، ضرب و تقسیم استفاده می‌کنیم . در جبر هم از این چهار عمل و هم از توان و ریشه استفاده می‌کنیم .

از این گذشته ، در حساب ما معمولاً با اعداد بزرگتر از صفر سروکار داریم ، در صورتی که در جبر اعدادی (یا حروفی که نماینده اعداد هستند) را به کار می‌بریم که کوچکتر یا بزرگتر از صفر اند . اعداد بزرگتر از صفر را اعداد مثبت می‌نامیم ، و اعداد کوچکتر از صفر را اعداد منفی . عدد منفی را با گذاشتن يك علامت منهای در جلو آن نشان می‌دهیم . مثل $x -$ یا $b - 42$.



هندسه مسطحه چیست ؟

هندسه مسطحه بررسی و مطالعه دنیای پیرامون ما است . بدون علم بدان ساختمانهای ما نامرتب و

بارانی که طی صد سال در تهران ، نیویورک ، پاریس بیارد فزونتر است . با وجود این، عددی به این بزرگی از بینهایت کوچکتر است .

علامات و نشانه‌ها فقط بخشی از زبان ریاضیات است، بخش دیگر تعریف اصطلاحات اساسی آن است. زبان جهانی ریاضی از مجموع این دو بدست می‌آید. با این زبان يك دانشمند یا ریاضیدان فرانسوی یا روسی می‌تواند با يك دانشمند امریکایی یا ایرانی دقیقاً تبادل فکر کند. $\infty < \text{تو گل}$ برای همه در همه جای دنیا يك معنا دارد .

عدد اول چیست ؟


ايزار اصلی ریاضیات عدد است . اگر ما دویا چند عدد را در هم ضرب کنیم عدد جدیدی بدست می‌آوریم . مثلاً : $2 \times 7 \times 11 \times 13 = 2002$ اعداد 2 ، 7 ، 11 ، و 13 را که در هم ضرب می‌شوند عوامل 2002 می‌نامند . اما همه اعداد عواملی که عدد صحیح باشد ندارند .

اجازه بدهید عدد 13 را مثال بیاوریم : عدد 13 فقط از ضرب کردن اعداد یا عوامل 1 و 13 در هم بدست می‌آید . اگر عددی جز به خودش و 1 قابل تقسیم نباشد ، و یا از حاصل ضرب اعداد دیگر جز خودش و 1 به وجود نیاید، عدد اول نامیده می‌شود . حالا بگویید 11 و 37 چه نوع عددی هستند ؟ هر دو عدد اول اند . آیا عدد 9 هم عدد اول است ؟ نه ، زیرا هم می‌تواند حاصل 3×3 و هم حاصل 9×1 باشد .

جبر و حساب چه فرقی باهم دارند ؟

می‌گویند زبان علم ریاضیات و دستور آن جبر است . جبر کلمه‌ای عربی است که معنی آن بهم پیوستن شکستگیها و یا ساده کردن است . اگر جبر نبود ، بسیاری از پیشرفتهای ما ممکن نبود . جبر مانند تونلی است که از میان کوهی بگذرد یعنی کوتاهترین

خطوط موازی خطهای



مستقیمی هستند که هر قدر

آنها را امتداد دهیم یکدیگر را قطع نکنند .


زاویه از دو خط مستقیم که از یک نقطه امتداد یابند تشکیل می شود (یا از دو خط مستقیم که در یک نقطه بهم برخورد کنند) . هر یک از این دو خط یک **ضلع** زاویه خوانده می شود ، و نقطه ای که دو ضلع به هم رسیده اند **رأس** زاویه نامیده می شود .

یک چهارم دایره یک

زاویه قائمه را به وجود

می آورد، و آن $\frac{1}{4}$ از 360°

درجه یا 90° درجه است.



هر زاویه ای را که کوچکتر

از زاویه قائمه یعنی کمتر از

90° درجه باشد **زاویه حاده**

می گویند .



زاویه ای که بزرگتر از 90°

درجه و کوچکتر از 180°

درجه باشد، **زاویه منفرجه**

است .




سطح از حرکت خط به

وجود می آید ، و دارای طول و عرض، ولی فاقد عمق

یا ضخامت است . یک سطح هموار مثل سطح روی میز

را **سطح مستوی** می گویند .



چند ضلعی یا **کثیرالاضلاع** چیست ؟

چند ضلعی چنانکه از اسمش پیدا است از مجموع

چند ضلع به وجود می آید و تمام اضلاع آن خطوط

دیوارهای ماکج می بود و ما نمی توانستیم در دریاها


کشتیرانی و در آسمانها پرواز

کنیم. همینکه با زبان اساسی

هندسه آشنا شدید خواهید

دید که همه چیز با هندسه

سروکار دارد .



بگذارید از نقطه شروع کنیم.

نقطه جایی را در فضا

نشان می دهد ، و داول، عرض


وضخامت ندارد .

از حرکت نقطه خط به

وجود می آید و خط بر چند قسم است :

اول خط افقی و آن هم تراز با سطح آب

ساکن است .



دوم خط عمودی که

بطرف بالا یا پایین امتداد

دارد ، و با خط افقی زاویه

قائمه تشکیل می دهد یا عمود

بر آن است .

سوم خط مایل که نه

عمودی است و نه افقی.

چهارم خط منحنی ، و

آن خطی است که همیشه

جهت خود را تغییر می دهد.



مستقیم هستند. اگر تمام اضلاع برابر باشند آن چند ضلعی را منتظم گویند..

کم ضلع ترین چند ضلعی سه ضلعی یا مثلث است . ریاضیدانان دریافته اند که دو اصل کلی هست که در تمام مثلثها صادق است :

اول آنکه مجموع سه زاویه هر مثلث مساوی 180° درجه است .



دوم آنکه طول هر ضلع متناسب است با زاویه مقابل همان ضلع، و ضلع بزرگتر مقابل زاویه بزرگتر است .


بطور کلی ۶ نوع مثلث وجود دارد:

اگر مثلثی دارای يك زاویه قائمه باشد، آنرا مثلث قائم الزاویه گویند . ضلع مقابل زاویه قائمه را وتر گویند که بزرگترین ضلع مثلث قائم الزاویه است .

اگر دو ضلع مثلثی باهم برابر باشند آنرا مثلث متساوی الساقین گویند . زاویه های مقابل این دو ضلع مساوی باهم مساویند .

اگر هر سه زاویه يك مثلث، حاده ، یعنی کمتر از 90° درجه باشد، آن را مثلث حاد الزاویه گویند.





اگر ضلعهای مثلثی طولهای مختلف داشته باشد، آن را **مختلف الاضلاع** می نامند .
اگر يك زاویه مثلثی بزرگتر از 90° درجه باشد، آن را **مثلث منفرج الزاویه** گویند.
اگر سه ضلع و سه زاویه مثلثی برابر باشد، آن **مثلث متساوی الاضلاع** است.


چهار ضلعی چیست؟

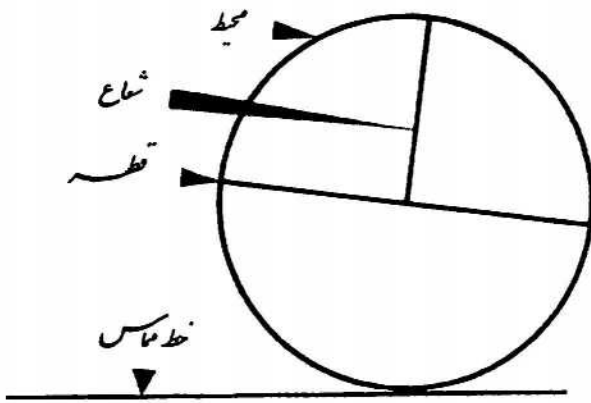
یکی دیگر از انواع چندضلعی، چهارضلعی است که مجموع زاویه های داخل آن 360° درجه است، و مجموع طول اضلاع آن را **محیط** می نامند . چهار ضلعی ۶ نوع است:

متوازی الاضلاع، که چهار ضلع دارد و اضلاع روبه رو به دو به دو باهم موازیند.
مربع، که دارای چهار ضلع مساوی و چهار زاویه مساوی است و هر يك از چهار زاویه آن 90° درجه می باشد.

مربع مستطیل، متوازی الاضلعی است که هر يك از چهار زاویه آن 90° درجه و اضلاع روبه روی آن باهم مساویند.

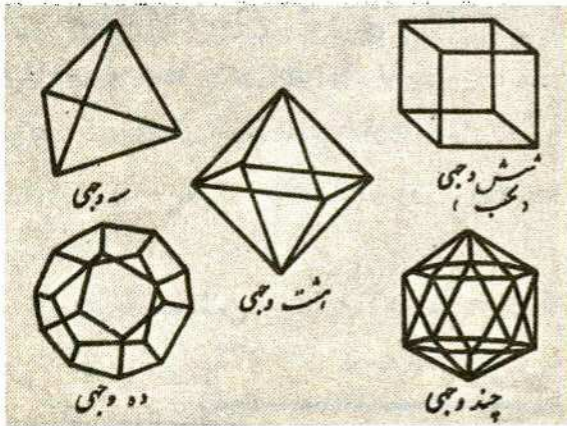
لوزی، که دارای چهار ضلع مساوی است،





فقط در يك نقطه از محیط با دایره برخورد دارد .
هندسه فضایی چیست ؟

وقتی که يك سطح هندسی دارای ضخامت گردد،
از قلمرو هندسه مسطحه دور می شود و وارد هندسه
فضایی می گردد. در این شاخه از ریاضیات با چهار شکل



اصلی روبرو هستیم : کره ، مخروط ، استوانه و
چند وجهی . چند وجهی ها حجمهایی هستند با درازا
و پهنای ارتفاع که هر سطح یا وجه آنها يك چند ضلعی
است : فقط ۵ نوع چند وجهی منتظم داریم که عبارتند از :
الف - هرم یا چهار وجهی منتظم که هر يك از
چهار وجه آن يك مثلث متساوی الاضلاع است .

ب - مکعب یا شش وجهی منتظم که هر




کره



مخروط



استوانه



شور

اما دوزاویۀ آن منفرجه یعنی بزرگتر از 90° درجه
است .

ذو ذنقه ، که فقط دوزلع موازی دارد .
مختلف الاضلاع ، که هیچك از اضلاع آن
موازی نیستند .

كثیر الاضلاع ممكن است بیش از سه یا چهار
ضلع داشته باشد ؛ برای مثال پنج ضلعی دارای پنج
ضلع است ، شش ضلعی دارای شش ضلع ، هفت ضلعی
هفت ، هشت ضلعی هشت و دوازده ضلعی دارای
دوازده ضلع است .

دایره چیست ؟

چنانچه تعداد اضلاع يك چند ضلعی زیاد شده
به بینهایت برسد چند ضلعی شکل تازه ای به خود
می گیرد که آن را دایره گویند . دایره منحنی بسته ای
است که فاصله تمام نقاط آن از مرکز به يك اندازه
است . هر دایره 360° درجه دارد .

محیط دایره حد خارجی آن است .

شعاع خطی است مستقیم از مرکز دایره تا
محیط آن .

قطر خط مستقیمی است که از مرکز دایره
می گذرد و دایره را به دو قسمت تقسیم می کند .

مماس خط مستقیمی است در خارج دایره ، که

- د - دوازده وجهی منتظم که هر يك از دوازده وجه آن يك پنج ضلعی است .
- ه - بیست وجهی منتظم که هر يك از بیست وجه آن يك مثلث متساوی الاضلاع است .

- يك از شش وجه آن يك مربع است .
- ج - هشت وجهی منتظم که هر يك از هشت وجه آن يك مثلث متساوی الاضلاع است .

نشانه‌ها و علامتها و تعریفهای ریاضی

بزرگتر است از هر عددی که فکر کنیم یا بگوئیم یا بنویسیم .

π پی : برای محاسبه محیط و مساحت دایره بکار می‌رود و مساوی 3.14159 است .

$^\circ$ علامت درجه است : درجه واحد اندازه‌گیری زاویه است . يك دایره کامل 360° است .

علامت دقیقه است : دقیقه برای نشان دادن قسمتهایی از يك درجه بکار می‌رود . هر درجه مساوی 60 دقیقه است .
($1^\circ = 60'$)

" علامت ثانیه است : ثانیه برای نشان دادن قسمتهایی از يك دقیقه بکار می‌رود . هر 60 ثانیه 1 دقیقه است .
($1' = 60''$)

\perp علامت عمود است : عمود خطی است که با خط دیگر يك زاویه قائمه تشکیل دهد .

\parallel علامت موازی است : دو خط مستقیم وقتی موازی هستند که امتداد آنها همدیگر را قطع نکند .

+ باضافه علامت جمع یا افزایش است مثل :

$$3 + 4$$

- منها علامت تفریق یا کاهش است مثل :

$$4 - 2$$

\times ضرب علامت ضرب کردن است مثل :

$$2 \times 2$$

\div بخش علامت تقسیم کردن است مثل :

$$8 \div 2$$

= علامت مساوی است مثل :

$$3 + 2 = 9 - 4$$

\neq علامت نامساوی است مثل :

$$3 + 4 \neq 4 - 2$$

$>$ علامت بزرگتر بودن است مثل :

$8 > 4$ یعنی هشت بزرگتر است از چهار .

$<$ علامت کوچکتر بودن است مثل :

$4 < 8$ یعنی چهار کوچکتر است از هشت .

∞ علامت بینهایت است : بینهایت یعنی عددی که

اصطلاحات ضرب

مضروب عددی است که ضرب می‌شود مثل..... $32 \times$

مضروب فیه عددی است که مضروب در آن ضرب می‌شود..... 14

$$\hline 128$$

$$32$$

$$\hline 448$$

حاصلضرب را حاصل یا نتیجه گویند.....

اصطلاحات تقسیم

مقسوم عددی است که قسمت می‌شود.....

مقسوم علیه عددی است که مقسوم را بر آن قسمت می‌کنند

بهره نتیجه عمل تقسیم است

باقیمانده عددی است که باقی مانده و قابل قسمت به

مقسوم علیه نیست :

مثال :

$$\begin{array}{r} 153 \text{ مقسوم} \\ 8 \text{ مقسوم علیه} \\ \hline 8 \quad 19 \\ 73 \\ 72 \\ \hline 1 \text{ باقیمانده} \end{array}$$

اصطلاحات کسر

کسر $\frac{4}{9}$ را در نظر بگیرید : (۴) صورت کسر

است و قسمتهای برداشته شده را نشان می‌دهد . (۹)

مخرج کسر است که در پایین خط کسری نوشته می‌شود

و صورت بر آن تقسیم می‌شود ؛ مخرج نشان می‌دهد که

شیئی به چند جزء تقسیم شده است .

$\frac{6}{7}$ کسر کوچکتر از واحد است : زیرا

صورت کسر کوچکتر از مخرج آن است .

$\frac{13}{4}$ کسر بزرگتر از واحد است، زیرا صورت

کسر بزرگتر از مخرج آن است .

$2\frac{1}{4}$ رفع یعنی يك عدد صحیح و يك کسر

می‌باشد .

جذر ، ریشه و قوه چیست ؟

این علامت $\sqrt{\quad}$ که رادیکال خوانده می‌شود

ریشه يك عدد را نشان می‌دهد و معمولاً برای ریشه

دوم یا جذر بکار برده می‌شود . برای مثال $\sqrt{4} = 2$

چون $2 \times 2 = 4$. جذر هر عدد ، عدد دیگری است

که هرگاه آن را در خودش ضرب کنیم مساوی آن عدد

شود . اینك يك مثال دیگر : $\sqrt{16} = ?$ چه عددی را

می‌توانیم در خودش ضرب کنیم که حاصلش ۱۶ بشود ؟


جواب ۴ است زیرا $4 \times 4 = 16$

ارقام و اعداد

بدرستی نمی‌دانیم که انسان ابتدایی از چه وقتی

برای تبادل فکر با خانواده و همسایگان خود به جای

ایماء و اشاره به سخن گفتن پرداخته است ، ولی این‌را



مردم اولیه يك ودو را می دانستند و بعضی از آنها بسیار را به معنی سه به کار می بردند .

بسیاری از ایشان ریگها را چون مهره های حساب به کار می بردند. اهالی پرو از طنابهای گره زده استفاده می کردند .



چوبخط به عنوان ابزار محاسبه از خیلی قدیم مرسوم بوده است ، و در آن هر شکاف یازدانه دلالت بر يك واحد ریاضی می کند.



بگویند که چهار فیل پشمالوی بزرگ (ماموت) را هنگام شکار دیده است.
عدد چیست ؟

در آغاز، انسان ابتدایی برای نشان دادن اعداد مورد نظر خود به ایما و اشاره متوسل می شد؛ مثلاً به پیری که کشته و اینک در جلوی پایش افتاده بود، و یا به سه نیزه همسایه اش اشاره می کرد. یا از انگشتانش برای نمودن اعداد استفاده می کرد . دو انگشت دست معنی

می دانیم که انسان هزاران سال پیش از آنکه نوشتن را فراگیرد حرف زدن را می دانسته است . به همین ترتیب، انسان هزاران سال پیش از آنکه علامات ریاضی را به جای کلمات بکاربرد ، یعنی به حای کلمه سه رقم ۳ را به کاربرد ، اسم ارقام را می دانسته است .

انسان به دانستن عدد محتاج بود ، و می بایست شمردن را بیاموزد. شاید این احتیاج وقتی پیداشد که انسان غار نشینی می خواست پلنگی را که شکار کرده بود با سه نیزه همسایه اش معامله کند ؛ یا وقتی که کودک دوازده ساله غار نشینی می خواست به برادران و خواهرانش

انسان از چه وقتی ارقام را به کار برد؟

تا آنجا که بر ما معلوم است مصریان قدیم و مردمان بین‌النهرین در حدود پنج هزار سال پیش علامات‌ی برای نوشتن اعداد داشتند. این مردمان با آنکه بسیار دور از هم می‌زیستند، هریک مستقلاً موفق به اختراع يك رشته از ارقام شدند. ارقام ساده آنها، چون ۱ و ۲ و ۳، المثنای چوب و چوبخ‌ط آدمیان نخستین بود. جالب اینجاست که در بسیاری از دستگام‌های ارقام که در سراسر دنیا بدست آمده است رقم ۱ به شکل يك خط مقطع (مانند يك چوب) یا يك نقطه (مانند يك ریگ) نوشته می‌شده است.

۷	بابلی	۱	مصری
—	چینی	۱	رومی قدیم
•	مایایی	۹	هندی قدیم

مردمان باستانی چگونه می‌نوشتند؟

مصریان قدیم ارقام را روی پاپیروس می‌نوشتند و آن نوعی کاغذ بود که از نی مخصوصی تهیه می‌شد؛ یا آنها را روی کوزه‌ها نقش می‌کردند؛ یا بردیوارهای معبد‌ها و هرم‌هایشان می‌کنند.





ارقام روی گلدان‌های مصری اغلب از محتویات آن سخن می‌گفت.


دو می‌داد خواه دو نیزه، یا دو بیر دندان خنجری، یا دو غار یا دو پیکان. می‌دانیم که در زندگی عادی روزانه عدد کلمه یا نشانه‌ای است که دلالت بر مقدار و تعداد معینی می‌نماید و لازم نیست آنچه را که ما درباره‌اش گفتگویی کنیم معین سازد. مثلاً سه یا ۳ می‌تواند سه هواپیما یا سه قلم یا سه کتاب باشد.

انسان نخستین چگونه می‌شمرد؟

بعضی از مردم ابتدایی نمی‌توانستند بیشتر از دو بشمارند. فقط يك قرن پیش موقعی که بومندگان به قبیله هوتن توت، در آفریقای مرکزی، برخوردند دیدند که آنها فقط سه عدد می‌شناسند: يك دو و بسیار. اگر يك نفر از این قبیله سه گاو یا بیشتر، مثلاً ۷۹ یا ۲۰۰۰ گاو داشت، برای شمارش آن فقط عدد بسیار را بکار می‌برد. بیشتر مردمان ابتدایی ساده، یعنی مجموع تعداد انگشتان دستشان می‌شمردند. بعضی فقط تا ۲۰، یعنی مجموع تعداد انگشتان دست و پایشان، می‌دانستند. شما وقتی که با انگشتان شماره می‌کنید، فرق نمی‌کند که از انگشت شست یا انگشت کوچک دست شروع کنید، اما بین مردم اولیه برای این کار قاعده‌هایی وجود داشت: زونیا (قبیله‌ای از سرخپوستان) شمردن را از انگشت کوچک دست چپ شروع می‌کردند؛ اتوماک‌های آفریقای جنوبی با انگشت شست آغاز می‌کردند. آدمیان چون متمدن تر شدند، از چوب و ترکه و ریگ و گوش‌ماهی برای نشان دادن اعداد استفاده می‌کردند. آنها سه ترکه یا ریگ را در يك ردیف می‌گذاشتند که معنی سه را برساند. عده‌ای با ایجاد بریدگی‌هایی بر روی يك چوب یا گره‌هایی که به يك طناب می‌زدند منظورشان را از عددی که می‌خواستند بیان کنند می‌رسانیدند.



دب اکبر به دور ستاره قطبی می‌گردد . یک گردش کامل یک روز طول می‌کشد .



آدمیان نخستین در شب راه منزل خود را از روی جهت غروب خورشید پیدا می‌کردند . طلوع و غروب خورشید یکی از قدیمیترین راههای جهت‌یابی برای آدمیان نخستین بوده است .

چرا ارقام مهم هستند ؟

هر قدمی که در راه پیشرفت تمدن برداشته می-
شد، برموارد استفاده اعداد می افزود. اگر شخصی دارای
زمین بود می خواست آن را اندازه گیری کند . اگر
قایقش را به دل دریا می راند می خواست فاصله خود
را از ساحل بداند . اگر می خواست معبد یا هر می
بسازد، مجبور بود که بداند چقدر سنگ لازم دارد .
وقتی که محاسبه با ارقام را آموخت توانست زمان ،
فاصله ، مساحت و حجم را اندازه بگیرد. با به کار بردن
ارقام ، انسان بردانش و تسلط خود بردنیای پیرامونش
افزود .

رومیهای قدیم ۱۰۰ را اینطور C می نوشتند.

رومیهای بعد نیز همین شکل را به کار بردند.

۱۰۰۰ در روم قدیم باین شکل بود $\overline{C}D$
اما بعداً بداین صورت M درآمد .

جای دادن علامات بطور عمودی ، یکی در
زیر دیگری ، روشی بود که توسط مایاها برای نوشتن
اعداد بزرگ بکار برده می شد. این طرز نوشتن به
معنای ضرب بود. علامت ۱۰۰ مایایی این $\overline{10}$ بود:
یعنی ۵ — بار $\overline{20}$.

ریاضیات در تاریخ قدیم

آدمیان نخستین از ستاره قطبی به عنوان راهنما
استفاده می کردند .

انسان نخستین نه شهری داشت نه دهکده ای.
در پی شکار و یافتن غذا دائم از جایی به جایی می رفت،
و چون نه جاده ای در کار بود و نه نقشه ای، ناچار برای
یافتن راه خویش به خورشید و ستارگان اعتماد می-
ورزید

چگونه مردم قدیم زمان را اندازه می گرفتند؟


ماه اولین تقویم انسان بود . ماه از مرحله
تقریباً نامرئی به تدریج بزرگ می شود و به صورت بدر
(ماه شب چهارده) در می آید و سپس رفته رفته ناپدید
می گردد. مردم دریافتند که ۱۲ ماه یا ۳۶۰ روز لازم
است تا چهار فصل يك دور کامل را طی کنند، و این اولین
مقیاس برای طول سال بود.

بعضی از مردم که در ساحل دریا زندگی می -
کردند می دیدند که خورشید از پشت کوهها طلوع می کند
و سپس در میان آب ناپدید می شود . آنها پی بردند که
بارفتن در جهت طلوع خورشید می توانند به کوهها
برسند، و با حرکت به طرف غروب خورشید به ساحل
بازگردند .

ارتباط بین نظم فصلها و وضعیت خورشید و
ستارگان در آسمان، دومین مشاهده برای سنجش زمان
بود . بامشخص کردن محل ستاره معینی در افق شرقی،
درست هنگام غروب خورشید، اندازه گیری دقیق تری
از طول سال ممکن گردید . مصریان باستان در حدود
۶۰۰۰ سال پیش طول سال را ۳۶۵ روز می دانستند .

بامشاهده آسمان در شب دریافتند که گروهی از
ستارگان در حین عبور از آسمان در کنار هم باقی
می مانند .

در نیمکره شمالی، ستارگان دایره وار در حول
نقطه ثابتی که ستاره قطبی باشد حرکت می کردند.



قدیمی ترین ساعتها ، ساعت آفتابی بود. ستون یا تیری در مقابل آفتاب برمی افراشتند که از آن سایه ای بر زمین می افتاد. بعد فاصله بین سایه ای را که در طلوع آفتاب و در غروب آفتاب ایجاد می شد تقسیم می کردند و این تقسیمات ساعات روز را نشان می داد .

آنها بسیار ابتدایی بود.

در آن هنگام که آنان به ساختن اهرام پرداختند، هنوز ریاضیدانان شان با انگشتان دست شماره می کردند، و حساب آنها ، چیزی جز صورتی از جمع یا تفریق نبود. با وجود این آنها مقدار زیادی برداش ریاضی ما افزودند. کاهنان مصری که ریاضیدان بودند ساختمان معابد و اهرام را که مقبره فرعونهای مصر بود، رهبری می کردند. این کاهنان که هم مهندس بودند وهم معمار، نقشه هایی شبیه نقشه های مهندسی امروز تهیه می کردند که جز با اندازه گیریهای دقیق میسر نبود .

اندازه گیریهای خشن و غیر دقیق اقوام ابتدایی به درد سازندگان اهرام و معابد نمی خورد؛

طول يك ذراع چقدر است ؟

مصریان برای بدست آوردن وقت لازم در اندازه گیری ، مقیاسهایی بر پایه بدن انسان وضع کردند . واحد اساسی اندازه گیری آنها ذراع بود، و آن برابر بود با فاصله آرنج تا نوک انگشتان دست. هر ذراع به ۷ کف دست، و هر کف دست به چهار انگشت تقسیم می شد. بر طبق مقیاسهای جدید هر ذراع برابر ۴۶ تا ۵۶

ساعت آفتابی چیست ؟

سایه هایی که بر اثر نور خورشید در مدت روز ایجاد می شود اولین ساعت انسان شد. وقتی که خورشید بالا می آید سایه های اشیاء کوتاه می شود و تغییر جهت می دهد. در بعد از ظهر باز سایه ها بلند می شود. بنابراین اوقات روز را می توان از روی جهت و طول سایه ها معین کرد .

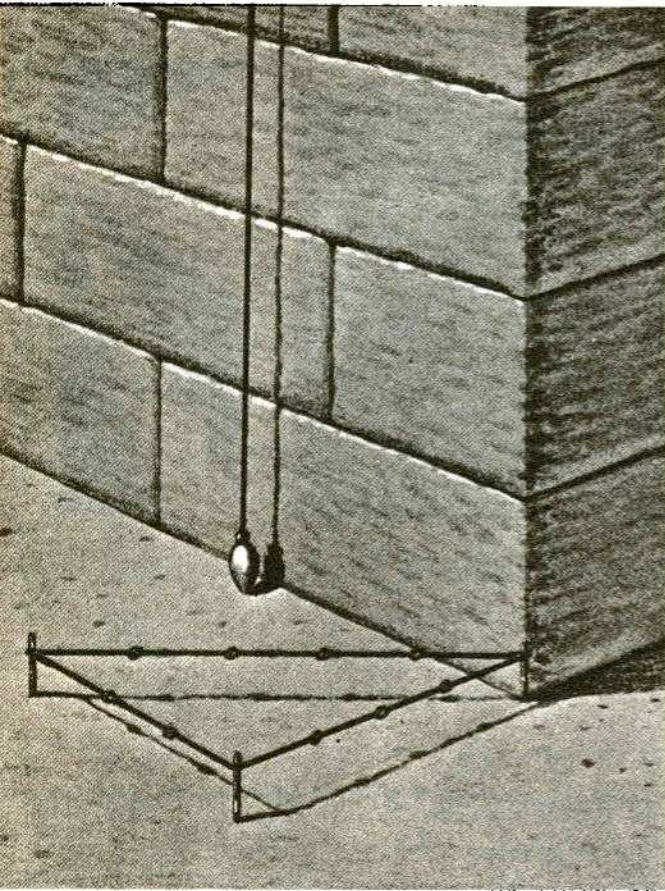
اولین ساعت های آفتابی چیزهای بیقواره ای بودند. آنها معمولاً از يك چوب مستقیم که در زمین فرو نشاندند بودند، یا يك سنگ ، یا ستونی هرمی شکل که بر يك پایه سنگی استوار بود ، تشکیل می شدند. این ساعتها غیر قابل اعتماد و نادرست بودند . اگر خورشید نمی تابد ساعت قابل استفاده نبود. علاوه بر این، چون با تغییر فصول طول سایه ها تغییر می کرد تعیین وقت دقیق مشکل بود. هزاران سال طول کشید تا ساعت آفتابی به وسیله ریاضیدانان مسلمان تکمیل گردد .

اولین ریاضیدانان چه کسانی بودند ؟

بعضی اوقات مصریان قدیم را که در پنج هزار سال پیش می زیستند ریاضیدانهای واقعی عهد کهن به حساب می آورند ، ولی با معیارهای امروزی، ریاضیات

ساتیمتر بود.

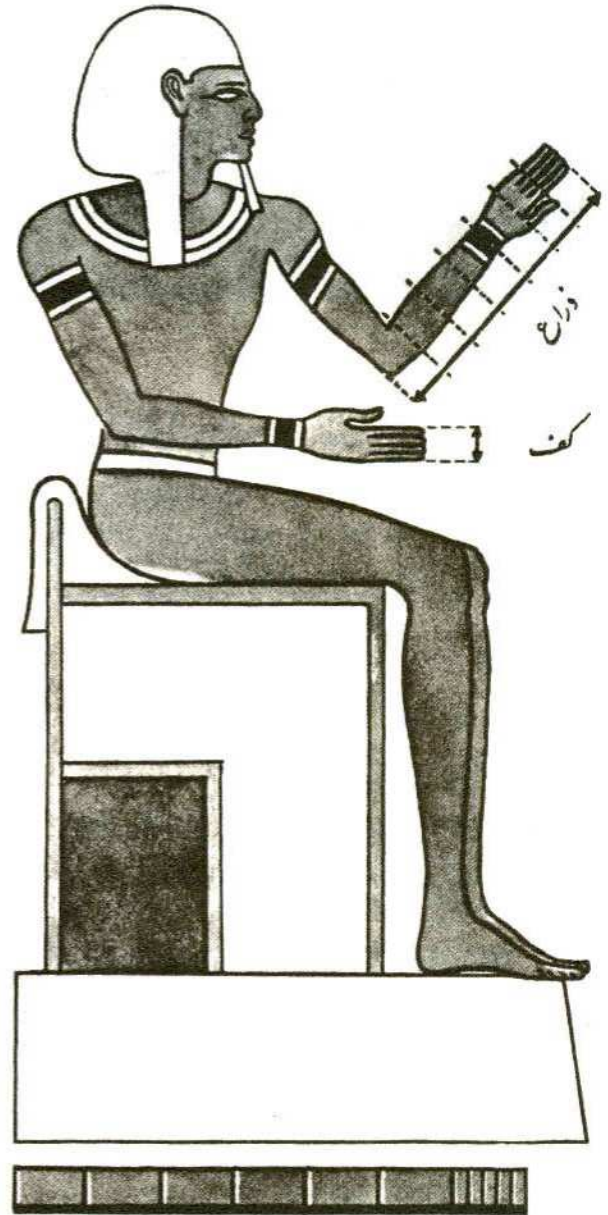
چطور گوشه یا نبش يك دیوار را می‌سازید؟
یکی از مشکلترین مسائل در ساختن اهرام و
معبدها طرح شالوده بنا به صورت مربع کامل بود. يك
اشتباه به قیمت از شکل افتادن همه بنا تمام می‌شد.



مصریان شاقول و مثلث‌گره‌دار به کار می‌بردند.


مصریان این مشکل را با ساختن شاقول از هیان برداشتند.
اولین شاقول احتمالاً قطعه ریسمان یا نخ بود که وزنه
ای به آن آویخته بودند و آن را در برابر بنامی گرفتند
تا وزنه آن به زمین مسطح برسد. در این حال، نخ
می‌بایست کاملاً عمود یا شاقول باشد، و زاویه بین آن
و زمین مسطح يك زاویه قائمه باشد.

همچنین این معماران کشف کردند که چگونه
با طنابهای اندازه‌گیری که در فاصله‌های مساوی گره
خورده بودند، مثلثهای قائم‌الزاویه‌ای بسازند، و این
مثلثها را راهنمای خویش در ساختن نبش بنا قرار
دهند.



کاهنان مصری میله‌های فلزی مطابق با يك ذراع
ساختند که بر روی آن تقسیمات کوچکتر چون کف دست و
انگشت معین شده بود. درست مثل متر ماکه به نیم متر و
چارک تقسیم شده است.

کاهنان ریاضیدان مصری بعد از
طغیان سالیانه رود نیل زمین را اندازه
می گرفتند و به صورت مثلثهایی تقسیم
می نمودند .



آگاهی انسان به رابطه بین مثلث
و مربع مستطیل قدمی بود در تحقیق
علم و دانش .


هر سال خطوط و علامات مرزی بین مزارع رامی شست
و باخود می برد، و از نو لازم بود که زمینها اندازه گیری
شود و مرزها تعیین گردد.

تقسیم مزارع به مربع و مربع مستطیل کار آسانی
نبود، ولی می شد آنها را به آسانی به مثلثهایی تقسیم
نمود . مصریان بر حسب اتفاق ، و یا در نتیجه مطالعه
طولانی دریافتند که یک مربع یا مربع مستطیل رامی توان
به دو مثلث مساوی تقسیم کرد، و با این کشف پی بردند
که مساحت هر مثلث قائم الزاویه ای مساویست با نصف
قاعده ضرب در ارتفاع .

$$\text{مساحت} = \text{قاعده} \times \frac{1}{2} \text{ ارتفاع} .$$

سالها گذشت تا آنها فهمیدند که این قاعده در هر مثلثی
صدق می کند، حتی اگر آن مثلث هیچ زاویه قائمه ای
هم نداشته باشد.

مصریان مساحتها را چگونه اندازه می گرفتند؟
مسأله دیگری که سازندگان معبدها و اهرام با
آن روبه رو بودند بر آورد مساحت، یعنی تعیین مقدار
سطحی بود که در یک محدوده قرار داشت . به درستی
معلوم نیست کدکی و چگونه برای اندازه گیری سطح
از مربع استفاده شد . شاید فرش کردن کف معابد با
آجرهای چهار گوش کلید نخستین استفاده از مربع در
اندازه گیری مساحت بوده باشد. اگر اتاقی ۸ آجر پهنا
و ۸ آجر درازا داشت معماران مصری می دیدند که
برای فرش کردن تمام آن ۶۴ آجر لازم است . اتاق
دیگری با ۸ آجر پهنا و ۱۰ آجر درازا ۸۰ آجر لازم
داشت. از اینجا پی بردند که مساحت مربع یا مستطیل
برابر است با درازا ضرب در پهنا (یا طول ضرب در عرض).
اندازه گیری زمین به علم ریاضی بیشتری احتیاج
داشت . کاهنان زمینها را اندازه می گرفتند، زیرا مبلغ
مالیاتی که هر کس می پرداخت بستگی به اندازه زمین
یا مزرعه او داشت . از آن گذشته طغیان رود نیل در



نوشتن ارقام را از سومریان به ارث بردند، اما ماچند مفهوم و علامت اساسی ریاضی را از آنها فرا گرفته‌ایم، و از این لحاظ مدیون آنها هستیم .

انچه موقع اعشار به کار رفت ؟

روش اعشاری ما بر اساس طرز عدد نویسی بابلیان است. می‌دانیم که ارزش هر عدد بستگی به جای آن دارد. برای مثال ۲ را دو می‌خوانیم و ۲۰ را بیست . قراردادن ۲ در سمت چپ صفر (به صورت دهگان) معنیش آنست که ما خود به خود باید ۲ را در ۱۰ ضرب کنیم. بابلیان تا اندازه‌ای اعداد را به همین روش می‌نوشتند. به این ترتیب علامت \gg برای ۲ و علامت $\gg\gg$ برای ۲۰ بود. با آنکه بابلیان روش دهدهی یا اعشاری را وارد ریاضیات کردند ، ولی اروپاییان در قرن نهم بعد از میلاد به وسیلهٔ مسلمانان با آن آشنایی یافتند.

صفر را چه کسی اختراع کرد ؟

از استعمال صفر در دوره‌های خیلی قدیم اطلاعی نداریم ، ولی الواحی از ۲۰۰ سال پیش از مسیح در



جدولهای بابلیان شامل ضربیابی تا ۶۰×۶۰ بود .

ریاضیدانان بین‌النهرین چه کسانی بودند ؟

در حدود یک هزار و پانصد کیلومتری مشرق رود نیل، درهٔ حاصلخیز دجله و فرات قرار دارد که روزگاری به نام بین‌النهرین خوانده می‌شد . در آغاز تاریخ این سرزمین مسکن سومریها ، کلدانیها ، آشوریها و بابلیها بود . جامعهٔ آنها از پاره‌ای جهات مشابه جامعهٔ مصری بود . ریاضیدانهای ایشان نیز از طبقهٔ کاهنان بودند. مردم بین‌النهرین برخلاف مصریان، با اقوامی که در سمت مغرب در لبنان، در سمت شمال در آسیای صغیر، و در سمت مشرق در هند می‌زیستند داد و ستد وسیعی داشتند ، و حتی امکان دارد که با چین هم داد و ستد می‌کرده‌اند .

آنچه ما از ریاضیات آنها می‌دانیم از لوحه‌های گلی پخته‌ای که روی آنها نوشته‌اند ، برای ما حاصل شده است . بابلیها در چهار هزار و پانصد سال پیش دانش ریاضی پیش رفته‌ای داشتند. آنها خط میخی و

دستگاه ۶۰ تایی یاستینی چیست؟


یکی دیگر از ارمغانهای بابلیان به میراث ریاضی ماکه تا امروز در نجوم و هندسه از آن استفاده می‌شود دستگاه ۶۰ تایی یاستینی است که اساس آن عدد ۶۰ است .

بابلیان این دستگاه را در اوزان و مقادیر بکار می‌بردند. تقسیم سال به ۱۲ ماه، وساعت به ۶۰ دقیقه و دقیقه به ۶۰ ثانیه به بابلیها نسبت داده می‌شود، و همینطور تقسیم دایره به ۳۶۰° درجه .

دریانوردان ، خورشید و ستارگان


فنیقی‌ها چگونه دریانوردی می‌کردند؟

دریانوردان فنیقی با آنکه روزها از پی هم‌دردریا کشتی می‌رانند ، هرگز به انتهای زمین نمی‌رسیدند. در بندرها چون کشتیها به ساحل نزدیک می‌شدند، ابتدا نوك دکل آنها را می‌دیدند و سپس بادبانها را و آنگاه تمام کشتی را . در دریا ملوانی که بر بالای دکل نشسته بود، از دور سیاهی ساحل را می‌دید، و حال آنکه آنان که بر روی عرشه کشتی بودند چیزی نمی‌دیدند . بر- اثر همین مشاهدات ، آنها به‌زودی دریافتند که زمین



دست است که بر روی آنها علامتی برای نشان دادن نبودن یا عدم يك رقم به‌کار رفته است . در جدولهای ضرب بابلی که مشتمل بر تمام ارقام تا ۶۰ X ۶۰ است علامت \llcorner به جای صفر به‌کار رفته است . از آنجا که بابلیان با هندیان داد و ستد داشتند ، گمان می‌رود که مفهوم صفر را از آنان گرفته باشند. ولی به‌رحال این مسلمانان بودند که در قرن نهم یادم میلادی مفهوم صفر را وارد اروپا کردند.

در حدود ۸۰۰ کیلومتری شمال شرقی مصر و تقریباً ۸۰۰ کیلومتری شمال غربی بین‌النهرین سواحل سوریه، در امتداد دریای مدیترانه قرار دارد. در اینجا، در ۳۵۰۰ سال قبل، در سرزمین باستانی فنیقیه ملتی دریانورد زندگی می‌کردند . دریانوردان فنیقی از بندرهای صور و صیدون مدیترانه را در می‌نوردیدند. در حدود ۳۰۰۰ سال پیش کشتیهای آنان از منتها الیه غربی مدیترانه گذشتند و در سمت شمال تا بریتانیای کبیر، و در سمت جنوب تا سواحل غربی آفریقا پیش رفتند . با آنکه قایقهای کوچک آنها محکم بود، ولی آنان نزدیک به ساحل کشتیرانی می‌کردند تا از سرزمینها و نشانیهای آشنا به دور نیفتند . اما با گذشت زمان دل به خطر سپردند و به میان دریاها باز رانندند ، ولی این درموقعی بود که به اندازه کافی از ریاضیات دریا-نوردی اطلاع داشتند .



برخلاف آنچه که بیشتر مردم متمدن آن روزگار می-اندیشیدند، گرد است و مسطح نیست. رومیها صدها سال بعد به این نکته پی بردند، و از علم به آن برای اندازه گیری در دریا استفاده کردند.

چگونه می توانید بفهمید که فاصله شما تا افق چقدر است؟


علم به کروی بودن زمین برای اندازه گیری زمین نیز به ماکمک می کند. وقتی که شما روی یک کوه یا ساختمان بلند می ایستید همان منظره ای را می بینید که ملاح فنیقی از نوك دکل می دید. فرض کنید شکل اغراق آمیزی از شما در حالیکه بر بلندترین نقطه دکل یک کشتی ایستاده اید و دارید به دورترین جایی که چشم کار می کند می نگرید، بکشیم. شکل زمین را هم ترسیم کنیم. اکنون شما در نقطه الف تصویر هستید. فاصله شما تا زمین برابر است با اب.

فاصله شما تا زمین = اب (شما در نقطه الف هستید و کشتی در نقطه ب است).

خط ب ج شعاع زمین است، و آن خطی است از مرکز تا سطح زمین، و اندازه آن ۶۴۰۰ کیلومتر است. شما به نقطه ای که به نظر می آید آسمان و آب به هم

رسیده اند، یعنی در امتداد خط ا د نگاه می کنید. این خط فقط در یک نقطه با زمین مماس می شود. این خط نمی تواند در دو نقطه با زمین مماس شود زیرا در این صورت شما باید از توی زمین به آن سوی آن نگاه کنید. شما می توانید بچرخید و به هر سو که می خواهید نظر افکنید ولی خط دید شما همیشه در یک نقطه با زمین مماس می شود. اگر شما به دور خود بچرخید و

دریا نوردان قدیمی فنیقی اولین کسانی بودند که دریافتند که زمین گرد است و مسطح نیست.



$d =$ فاصله ما تا افق ، و $h =$ ارتفاع از سطح

زمین که به کیلومتر آن را اندازه می گیریم .

حالا يك مسأله حل می کنیم .

شماردربالنی نشسته اید که ۴ کیلومتر از سطح زمین

ارتفاع دارد . فاصله افق از شما چقدر است ؟ از فرمول

$\sqrt{2 \times 4} = \sqrt{8} = 2.828$ استفاده می کنیم . جذر ۴ می شود ۲

($2 \times 2 = 4$) ، و جواب مسأله می شود :

کیلومتر $2.828 \times 4 = 11.312$


چگونه می توانید از ساعتتان بجای قطب نما استفاده کنید ؟

ساعتتان را طوری بگیرد که هم سطح زمین

باشد و عقربه ساعت درجهت خورشید قرار گیرد .

جنوب در وسط فاصله عقربه ساعت شمار و علامت ساعت


۱۲ واقع است . برای مثال اگر پنج دقیقه بعد از ساعت



از هر سو به زمین نگاه کنید ، نقاط برخورد نگاه شما با زمین دایره ای را تشکیل خواهد داد . ما این دایره را افق می نامیم .

برای پیدا کردن فاصله خود تا افق از این فرمول

ریاضی استفاده می کنیم : $d = \sqrt{2 \times h}$



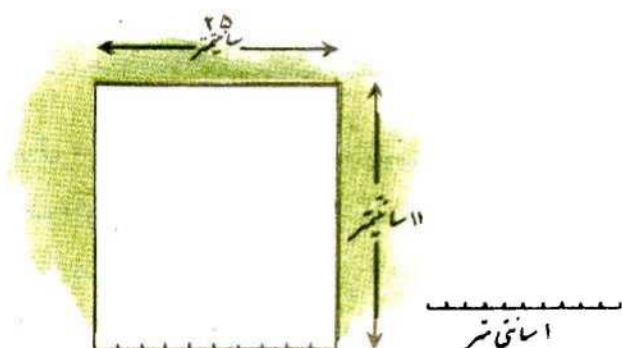
تا برس نشان داد که بر سینه سایه یک شیء و تقایید آن
بسیار یک خط کش شود ارتفاع آن شیء را حساب کرد

که از روی علامت ساعت ۱۱ و ۵ می‌گذرد جهت شمال و جنوب را نشان می‌دهد .

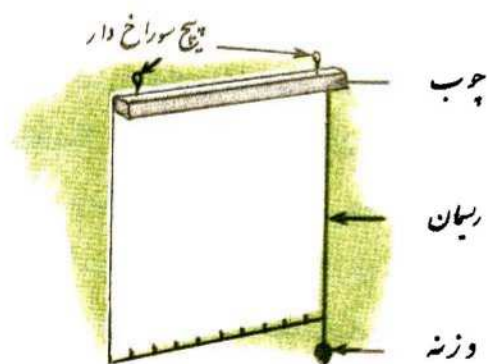
ده صبح باشد و شما عقربه ساعت شمار را به طرف خورشید گرفته باشید جنوب در نصف فاصله بین ۱۰ و ۱۲ یعنی روی علامت ساعت ۱۱ است . خط فرضی

ارمغان یونانیان به علم ریاضیات

است. که می‌توانید از مقوا و یا یک تکه چوب درست کنید .



یک تکه مقوا را بطول ۱۱ سانتیمتر و عرض ۱۰ سانتیمتر ببرید و لبه پایین سمت راست آن را سانتیمتر به سانتیمتر علامت بگذارید و اگر می‌خواهید نتیجه دقیق‌تری بدست آورید، هر سانتیمتر را نیز به ۱۰ قسمت تقسیم کنید ، محل تقسیمات سانتیمتر را شماره گذاری



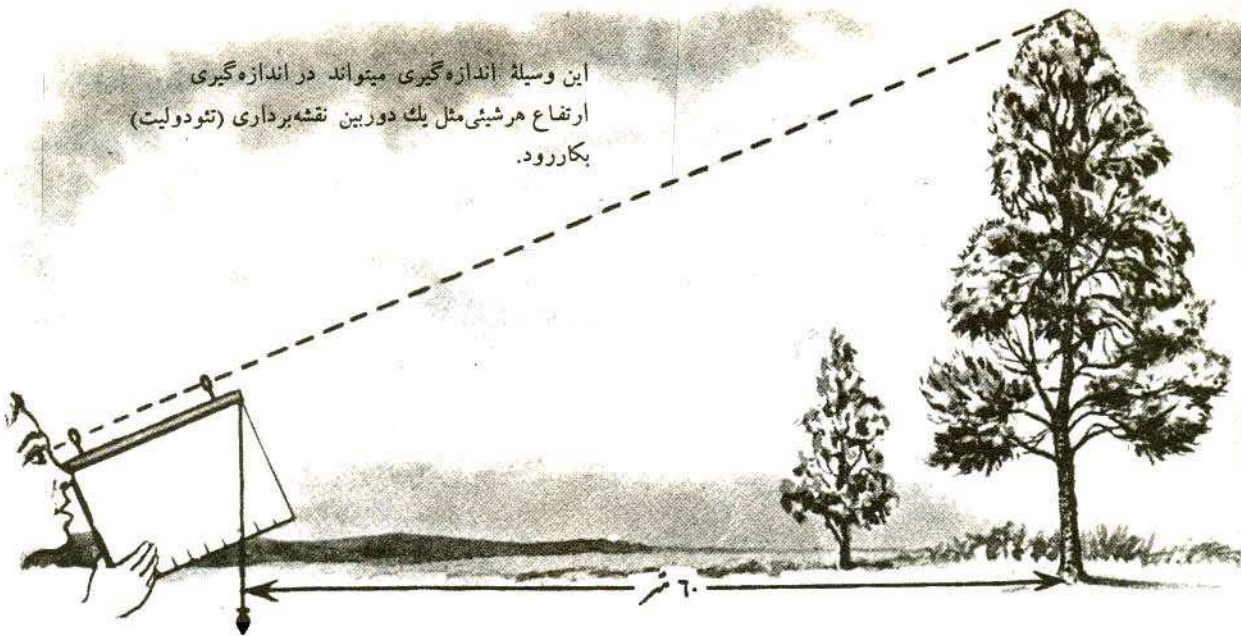
کنید. یک قطعه چوب که یک سانتیمتر در یک سانتیمتر کلفتی آن و ده سانتیمتر دزازی آن باشد بردارید ، و دوپنج سوراخ‌دار را مطابق شکل بدان ببندید. مقوا را بوسیله میخ یا سریشم به چوب وصل کنید . یک تکه نخ به طول ۱۵ سانتیمتر بردارید و یک میخ یا وزنه به

گمان می‌رود که ریاضیات تاعصر طلایی یونان به صورت علم بیرون نیامد . با آنکه مصریها ، بابلیها و فنیقی‌ها ریاضیات را از آنچه در روزگاران نخستین بود خیلی فراتر بردند ، اما آنها فقط بدجنبه‌های عملی ریاضیات مثل محاسبات مربوط به زندگی روزانه ، ساختمانها ، دریانوردی ، و داد و ستد علاقه داشتند . آنان ریاضیات را در مسائل خاصی به کار می‌بردند ، و به نظریه‌هایی که پایه و مبنای قواعد ریاضی بود نمی - پرداختند. این یونانیان بودند که با گامی بلند فاصله میان ریاضیات عملی و ریاضیات نظری را در نورددیدند. دانش ما از ریاضیات یونانی، از ۶۰۰ سال پیش از میلاد آغاز می‌شود ، یعنی از زمانی که تالس ، که یکی از هفت فرزانه مشهور یونان بود، مطالعه هندسه را در یونان آغاز کرد .

مصریها می‌دانستند که چگونه ارتفاع یک هرم را از روی سایه آن اندازه بگیرند ، ولی این تالس بود که فرمول اساسی این محاسبه را کشف کرد، و ثابت نمود که این فرمول در تمام موارد صادق است . نشان دادن اینکه یک قاعده در تمام موارد درست است، در ریاضیات **برهان** نامیده می‌شود .

چگونه می‌توانید بلندبها را اندازه بگیرید ؟
با استفاده از اصولی که تالس وضع کرده است می‌توانید بلندی هر چیزی را حساب کنید . تنها چیزی که احتیاج دارید یک وسیله ساده اندازه‌گیری

این وسیله اندازه‌گیری می‌تواند در اندازه‌گیری ارتفاع هر شیئی مثل يك دوربین نقشه‌برداری (تئودولیت) بکار رود.



که این قاعده در همه موارد صحیح است حال چه مثلث بزرگ باشد و چه کوچک .

بنابر قضیه فیثاغورث مربع بزرگترین ضلع مثلث برابر است با مجموع مربعات دو ضلع دیگر . به عبارت دیگر :


$$3^2 + 4^2 = 5^2$$

$$3 \times 3 + 4 \times 4 = 5 \times 5$$

$$9 + 16 = 25$$

بیشتر قواعد هندسی یونانیان از کتاب «اصول

مربع بزرگترین ضلع = مجموع مربعات دو ضلع کوچکتر .



يك سرش ببندید و سر دیگر نخ را به چوب در قسمت لبه‌راست مقوا گرد بزنید. حالا شما يك افزار اندازه‌گیری دارید .



برای بدست آوردن بلندی يك شیء ، از وسط سوراخ پیچها به نوک آن شیء نگاه کنید: نخ بطور عمودی یا شاقول آویخته می‌شود . ببینید نخ در روی کدام شماره می‌ایستد ، آن را یادداشت کنید . بعد فاصله خود را تا شیء حساب کنید. حالا این دو عدد را در هم ضرب کنید و حاصل را به ده تقسیم کنید . فاصله افزار اندازه‌گیری از زمین را هم به آن بیفزایید . برای مثال : اگر نخ در حال شاقول روی شماره ۵ مقوا ایستاد ، و شما در فاصله ۶۰ متری درختی ایستاده‌اید ۵ رادر ۶۰ ضرب کنید و حاصل را که ۳۰۰ است به ۱۰ تقسیم کنید. نتیجه ۳۰ است . اگر افزار اندازه‌گیری هم يك متر از زمین ارتفاع داشته باشد خواهید داشت $30 + 1 = 31$ پس بلندی درخت ۳۱ متر است .

قضیه فیثاغورث چیست؟

فیثاغورث یکی از دانشمندان یونانی بود که در ۵۰۰ قبل از میلاد زندگی می‌کرد . او يك قاعده کلی در مورد مثلثهای قائم‌الزاویه کشف کرد ، و ثابت نمود

اراتستن توانست باد و برهان هندسی که دانشمندان قدیم یونان پرورانده بودند محیط زمین را محاسبه کند. نخست آنکه معلوم گشته بود که زوایای مقابل با هم مساویند، و دوم آنکه ثابت شده بود که از تلاقی يك خط مستقیم باد و موازی زوایای مساوی به وجود می آید.

بعلاوه اراتستن می دانست که هر دایره 360°



درجه است. همچنین وی از روی اندازه گیریهایش می دانست که $7\frac{1}{4}^\circ$ درجه برابر 800 کیلومتر از سطح زمین است.

از آنجا که 48 بار $7\frac{1}{4}^\circ$ درجه برابر 360° درجه (یعنی يك دایره کامل) است، وی 800 کیلومتر را در 48 ضرب کرد، و به این ترتیب محیط زمین را برابر 38400 کیلومتر تخمین زد. با وسایل دقیق امروزی دانشمندان محیط دایره استوایی زمین را 39843 کیلومتر می دانند.

چه موقع انسان فاصله زمین تا ماه را اندازه گرفت؟

در قرن دوم پیش از میلاد ابرخس منجم مشهور اسکندریه فاصله زمین تا ماه را اندازه گرفت. بنابراین محاسبات او ماه در حدود 400000 کیلومتر از زمین دور بود. در این اندازه گیری ابرخس فقط 17000 کیلومتر اشتباه کرده بود، زیرا فاصله واقعی ماه از زمین برابر 383000 کیلومتر است.

هندسه « که به وسیله اقلیدس در 300 قبل از میلاد نوشته شده به ما رسیده است. این قواعد به صورت ترجمه در خیلی از مدارس دنیا تا حدود 50 سال قبل به عنوان کتاب درسی بکار می رفت.

چگونه برای اولین بار اندازه زمین محاسبه شد؟

اراتستن با اراتوستنس ریاضیدان یونانی، در حدود 225 قبل از میلاد می زیست. او کتابدار کتابخانه بزرگ اسکندریه در مصر بود، و نخستین کسی است که زمین را اندازه گرفته است. اراتستن ریاضیات را در مورد دوتا از مشاهدات خود به کار بست:

در اسوان نزدیک اولین آبشار نیل در روز معینی از سال امکان داشت که تابش نور خورشید را در يك چاه عمیق بخوبی مشاهده کرد، زیرا خورشید مستقیماً از بالای سر می تافت و هیچ نوع سایه ای به وجود نمی آورد. در همان موقع و همان روز سایه خورشید در اسکندریه (واقع در 800 کیلومتری شمال اسوان) $7\frac{1}{4}^\circ$ درجه بود.



با به کار بردن فرمول بالا می نویسیم :

$$\frac{6(6+1)}{2} = \frac{6 \times 7}{2} = \frac{42}{2} = 21$$

اعداد مربع کدامند ؟

شما می توانید از پیاده های شطرنج یا مهره های

یک **تخته نرد** هر نوع مربعی که بخواهید درست کنید .
کوچکترین مربع یک مهره شطرنج یا یک مهره تخته نرد است.
مربع دوم در هر طرف دومهره دارد .

سومین مربع سه مهره در هر سمت دارد .


یونانیان قدیم دریافتند که بین اعداد مربع و اعداد فرد
(یعنی عددی که به ۲ قابل قسمت نباشد) ارتباطی وجود
دارد . اگر شما یک سری از اعداد متوالی فرد را که
از یک شروع می شود جمع کنید همیشه یک عدد مربع
بدست می آید .

$$1 + 3 = 4 = 2 \times 2 = 2^2$$

$$1 + 3 + 5 = 9 = 3 \times 3 = 3^2$$

$$1 + 3 + 5 + 7 + \dots + 15 = 4 \times 4 = 4^2$$

ملاحظه می کنید که تعداد اعداد فردی که با هم



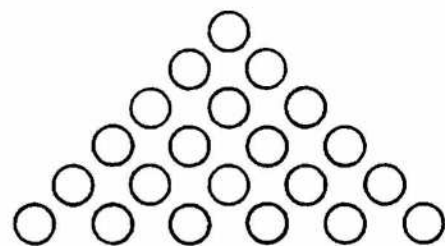
اعداد مثلث کدامند ؟

ریاضیدانان دیگر یونان جادوی اعداد را مورد

بزهش قرار دادند.

شاگردان فیثاغورث موقع جمع بستن اعداد

متوالی فهمیدند که می توانند برای جمع آنها قاعده -
هایی درست کنند . چون اعداد متوالی تشکیل مثلث
هایی می دادند، برای پیدا کردن جمع هر دسته از اعداد
متوالی این فرمول را وضع کردند :



$$\frac{n(n+1)}{2} = \text{جمع اعداد متوالی}$$

در این فرمول عدد اول یک و عدد آخر n است .

جمع اعداد ۱ تا ۶ چقدر می شود ؟ در این مسئله

بالاترین رقم عدد ۶ است که مساوی است با n . حال

از ارقام رومی تا ارقام عربی



رومیها در اوج قدرتشان، در آن زمان که بیشتر دنیای آن روزگار را فتح کرده بودند، هنوز به فن ساده حساب تسلط نداشتند. آنهایی که کارشان با ریاضیات ارتباط داشت سه روش برای محاسبه بکار می‌بردند. حساب بانگستان دست، حساب باچرتکه و حساب باجدولهایی که برای این منظور تهیه شده بود. از يك لحاظ رومیها از مردمان ابتدایی چندان بیشتر نمی‌دانستند، برای اینکه هنوز برای شمردن از انگشتان نشان كمك می‌گرفتند. شمردن بانگست صدها سال بعد از سقوط امپراطوری روم هم انجامه داشت، و تا سال ۱۱۰۰ بعد از میلاد هنوز در اروپا بکار می‌رفت.

چگونه می‌توانید عمل ضرب را بانگست انجام دهید؟

با آنکه محاسبه بانگستان قرنهای متمادی قبل از رومیها رایج بود، ولی رومیها و حتی مردم قرون وسطی فقط این روش را برای جمع کردن می‌دانستند. در این جا راه ساده‌ای برای محاسبه عمل ضرب اعداد ۶ تا ۱۰ بانگستان دست نموده شده است. هر انگشت بجای عدد از ۶ تا ۱۰ بکار می‌رود. برای ضرب، نوك دوانگشتی را که می‌خواهید اعداد آنهارا در هم ضرب کنید مقابل هم قرار دهید. در شکل ضرب ۸×۸ نشان داده شده است.

از دوانگشتی که در مقابل هم قرار گرفته است ده تا ده تا پایین بشمارید، و انگشتان بالا را یکی یکی بشمارید. هر دست را جداگانه حساب کنید. یکان‌های يك دست را در یکان‌های دست دیگر ضرب کنید. دهگانها را به این عدد بیفزایید. نتیجه جواب شما است.

جمع شده است همیشه برابر آن عددی است که باید به قوه ۲ برسد.

عدد کامل چیست؟

به نظر یونانیان عددی که برابر مجموع مقسوم‌علیه‌هایش، به استثنای خود آن عدد، بود عدد رموزی بود. اولین عدد از این نوع ۶ است. . . .

$$۶ = ۱ + ۲ + ۳$$

چنین عددی عدد کامل نامیده می‌شد. عدد کامل بعد از

$$۶ \text{ عدد } ۲۸ \text{ است. } ۱ + ۲ + ۴ + ۷ + ۱۴ = ۲۸$$

یونانیان چهار عدد کامل نخستین را کشف کردند

که عبارتند از: ۶ و ۲۸ و ۴۹۶ و ۸۱۲۸. در حدود

۱۵۰۰ سال بعد از آن پنجمین عدد کامل کشف شد، و

آن عدد ۳۳۵۵۰۳۳۶ بود. ششمین عدد کامل

۰۵۶۰۱۶۹۰۸۱۹۰۸ می‌باشد.


تا کنون هفده عدد کامل کشف شده است. هفدهمین

عدد کامل ۱۳۷۳ رقم دارد، و اگر بخواهیم آن را بنویسیم


نصف این صفحه را فرا می‌گیرد.

ترین و ساده‌ترین چرتکه عبارت از تخته‌حسابی بود که بازرگانان بابلی به کار می‌بردند .


برای آنکه آنها ۲۶۳ را با ۳۴۹ جمع کنند ، ابتدا برای نشان دادن عدد ۲۶۳ ریگها را به این صورت بر روی تخته می‌چیدند: دوریگ نماینده صدگان، ۶ریگ نماینده دهگان، ۳ریگ نماینده یکان. بعد ۳۴۹




را به این ترتیب به آن اضافه می‌کردند: ۳ در صدگان ، ۴ در دهگان و ۹ در یکان. از آنجا که هر ردیف نمی-



توانست بیش از ۹ ریگ داشته باشد ۹ را از ردیف یکان بر می‌داشتند، و در عوض یکی به ردیف دهگان می‌افزودند. در ردیف دهگان نیز همین کار را می‌کردند،



اضافه بر ۹ را بر می‌داشتند و یکی به صدگان می‌افزودند.



کار چرتکه چگونه است ؟

مصریها ، بابلیها و یونانیها قبل از رومیها از چرتکه استفاده می‌کردند . این افزار ساده حساب را چینیها و ژاپنیها نیز به کار می‌بردند . حتی امروز بعضی از چینیها و ژاپنیها از آن استفاده می‌کنند و بقدری در این کار مهارت دارند که می‌توانند با سرعت ماشینهای برقی حساب به حل مسائل بپردازند .

با آنکه چرتکه، بسته به اینکه در کجا و در چه زمانی به کار می‌رفته است و می‌رود ، شکلهای و نامهای مختلف داشته است و دارد ، ولی عملیات اساسی آن یکسان است . چرتکه دارای ستونهایی از مهره ها است ، و این ستونها بر حسب مقام هر عدد، یعنی بر پایه روش دهدهی سومریان ، تنظیم یافته است . قدیمی-

جواب می‌شد ۶۱۲ .

رومیها چطور ضرب می‌کردند ؟

رومیها برای عمل ضرب مثل مصریان و بابلیان جدولهای مخصوصی بکار می‌بردند . با این جدولها فقط ریاضیدانهای زبردست می‌توانستند عمل ضرب انجام دهند .

دستگاه ارقام رومی ، که شاید شما هم با آن آشنا باشید ، بسیار مشکل بود . مثال زیر نشان می‌دهد که حتی يك مسئله ساده چقدر برای رومیان مشکل بوده است . اجازه بدهید باروش رومیان ۱۸ را ۲۲ ضرب کنیم .


$$\begin{array}{r}
 \text{XVIII} \quad (18) \\
 \text{XXII} \quad (22) \\
 \hline
 \text{VI} \\
 \text{XXX} \\
 \text{LX} \\
 \text{C} \\
 \text{CC} \\
 \hline
 \text{CCC LX XXX VI} \\
 \text{CCCXCVI} \quad (396) \quad \text{جواب}
 \end{array}$$

روشهای پیچیده‌ای که رومیان در ریاضیات به کار می‌بردند ، قرن‌ها سد راه پیشرفت این علم گردید . قرن‌ها بعد از سقوط امپراطوری روم بود که جنبش و بیداری تازه‌ای به وجود آمد .

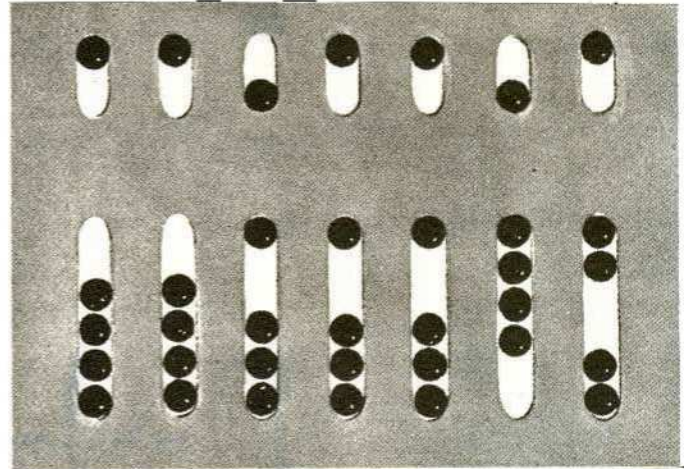
بزرگترین ارمغان هندیان به علم ریاضی چه بود ؟

تمدن هند در روزگاری هم عصر مصر و بین‌النهرین ، از دره رود سند آغاز گردید . هندیان ریاضیات را برای استفاده در نجوم پروردند ، و از این رو بیشتر حساب را مورد توجه قرار دادند . در هند نیز چون مصر ، علم ریاضی ویژه معنودی از مردم ، یعنی کاهنان بود .

بزرگترین موفقیت هندیان در ریاضی ، تکمیل ارقام بود که به توسعه و تکامل ریاضی به صورت يك علم کمک شایانی کرد . با آنکه بابلیان در ۲۳۰۰ قبل از




چرتکه رومیها از جنس فلز بود ، و درهرستون آن گلوله‌های کوچکی بکار می‌رفت . برای نشان دادن يك عدد گلوله را نزدیک خط تقسیم می‌گذاشتند .



گلوله‌های بالایی مساوی ۵ و گلوله‌های زیرین هر کدام مساوی يك بودند . عددی که در اینجا نشان داده شده است ۶۱۱۹۲ را نشان می‌دهد .

در مشرق زمین چینیه چرتکه را سوان - پان و ژاپنیه سوروبان می‌خوانند . وقتی می‌خواهند عددی را نشان دهند مهرها به طرف خط یا میله تقسیم می‌آورند . این تصویر نشان می‌دهد که ۶۵۱ چطور نوشته می‌شود .




ریاضی اسلامی افزون گشت؛ چنانکه در آغاز قرن
پانزدهم ارقام عربی در سراسر اروپا به وسیله دانشمندان
و بازرگانان به کار می‌رفت.

آگاهی بر ریاضیات جدید، یعنی دست یافتن بر
ارقام عربی، پی‌بردن به کشفیات هندسی یونانیان و
جبر، سبب شد اروپا قرون وسطا را که دوران جهل
و بی‌خبری بود به پشت‌سر گذارد و قدم در عصر اکتشافات
نهد.

میلاد مفهومی از صفر داشتند، ولی افتخار اصلی اختراع
آن در دستگامهای ارقام ما با هندیان است. هندیان
نخست برای صفر یک نقطه به کار می‌بردند. بعداً به
جای آن دایره کوچکی (۰) به کار بردند. نکته جالب
اینست که واژه هندی معادل صفر به معنای «تهی» و
«هیچ» است.

هندیها در ریاضیات مهارت زیادی از خود نشان
دادند، و مسائل دشواری با اعداد خیلی بزرگ عرضه
داشتند. مسلمانان که با هندیان داد و ستد داشتند در
نیمه دوم قرن هشتم بعد از میلاد دستگام ارقام آنها را
فرا گرفتند. در آن زمان مسلمانان بر خاور میانه، شمال
افریقا، و حتی اسپانیا حکومت داشتند. پزشکان یهودی
که در مدارس اسلامی درس خوانده بودند، و همینطور
بازرگانان ارقام هندی و عربی را وارد اروپا کردند.
در دوره جنگهای صلیبی آگاهی اروپاییان بر دانش

۰ ۲ ۱ ۳ ۵ ۷



در هندوستان هندیها از ریاضیات استفاده نموده، دانش خود را به اعراب منتقل نمودند.



بسر فرمانده به مردمی که با مردان در تپه‌ها
زندگی کردند و جنگیدند گفت آنها دارند

پیش می‌آیند

+

=



رمزها معمولاً در ایام جنگ به وسیله نظامی‌ها به کار برده می‌شود.

خواهیم داشت «می‌توا...» مثل اینکه کلید را پیدا کرده‌ایم زیرا این کلمه ممکن است آغاز کلمه می‌توان یا می‌توانی و غیره باشد.

برای حل آن از مربع رمز استفاده می‌کنیم. در تمام پیام ۲۵ حرف وجود دارد که از ۵ کلمه و هر کلمه از ۵ حرف تشکیل یافته است. این می‌رساند که پیغام در جدولی با ۵ خانه افقی و ۵ خانه عمودی نوشته شده است. اگر پیام رمز را برداشته برای پر کردن در خانه‌های جدول از جهت مخالف بنویسیم خواهیم دید که

م	م	ت	و	ا
ه	ن	ی	ا	می
ه	ن	ر	م	ز
ه	ر	ا	ب	خ
ه	و	ا	ن	می

یناوه خباره زمر نه یاینه اوتیم؟

پیامهای مهم و مخصوص معمولاً به رمز نوشته می‌شوند. فن خواندن رمزها را رمز خوانی می‌گویند. راههای بسیاری وجود دارد که می‌توانید به کمک ریاضی رمزها را بخوانید مثلاً این پیام:

یناوه خباره زمر نه یاینه اوتیم؟ ملاحظه می‌کنید که این رمز از ۵ کلمه یا ۵ دسته حروف که در هر دسته ۵ حرف است تشکیل یافته است. این اولین کلید ما است. حال تصور کنید که برای پی بردن به معنای رمز می‌آییم حرفهای اول پنج کلمه را بهم وصل می‌کنیم. خواهیم داشت: «یخزیا» و می‌دانیم که این لغت هیچ معنایی ندارد. از کنار هم نوشتن حرفهای دوم کلمه‌ها نیز یک کلمه بی‌معنی دیگر بدست خواهد آمد: «نباو». حال چطور است که این گروهها را بر عکس یعنی از راست به چپ بنویسیم؟ در این صورت از برعکس نوشتن کلمه آخر

حساب رمزی چیست ؟

هرگاه يك مسئله ریاضی داشته باشیم که در آن حروف جانشین اعداد شده باشند، آن مسئله را يك حساب رمزی می‌گوییم. این يك نمونه از حساب

$$\begin{array}{r} ABC \\ ABC \\ \hline DBC \\ BCE \\ ABC \\ \hline ACDBC \end{array}$$

رمزی است :

مجهول مسئله ، پیدا کردن مقدار ABC است

که به توان دو رسیده است .

این راه حل آنست : ابتدا از C که آخرین

رقم عدد است و مربع آن شروع می‌کنیم . فقط چهار عدد است که چون در خودشان ضرب شوند آخرین رقمشان همان عدد می‌شود : $(0 \times 0 = 0)$ ،

$$1(1 \times 1 = 1) ، 5(5 \times 5 = 25) ، 6(6 \times 6 = 36)$$

C نمی‌تواند مساوی صفر باشد برای اینکه

وقتی عددی را در صفر ضرب کنیم همان صفر می‌شود،

ولی در این مسئله ما B را در C ضرب کرده‌ایم و

حاصل ضرب E شده است .

C مساوی ۶ هم نیست . به ستون وسط جمع

توجه کنید. داریم: $D + C + C = D$. اگر C مساوی

۶ باشد غیر ممکن است که: هر عدد دیگر $6 + 6 +$

مساوی همان عدد مجهول باشد. C مساوی يك هم

نمی‌تواند باشد زیرا در این صورت $C \times ABC$ مساوی

ABC خواهد شد . ولی در این مسئله حاصل

$C \times ABC$ مساویست با DBC . بنابراین C باید

مساوی ۵ باشد .

ما همچنین عدد برابر يك حرف دیگر را

می‌دانیم و آن حرف A است . زیرا در مسئله می‌بینیم

برای جدا کردن کلمه‌ها از هم، بین هر کلمه يك ه گذاشته شده است . حالا می‌توانیم پیام رمز را بخوانیم که از اینقرار است : «می‌توانی این رمز را بخوانی ؟»



چطور می‌توانید مربع رمز درست کنید ؟

درست کردن مربع رمز خیلی آسان است .

حروف پیام را بشمارید و بین آنها علامت فاصله بگذارید . جذر یا عددی را که اگر آن را در خودش

ضرب کنید حاصلش برابر مجموع حروف و علامات بشود بدست آورید . اگر شماره حروف و علامات

فاصله پیام شما ۱۶ باشد در این صورت جذر آن می‌شود ۴، یعنی مربع رمز شما باید ۴ ردیف افقی و

۴ ردیف عمودی داشته باشد .

حالا ببینیم اگر شماره حروف و علامات فاصله

مساوی ۵۹ شد چه باید بکنیم ؟

عدد صحیحی که در خودش ضرب شده و مساوی

۵۹ گردد وجود ندارد ، برای اینکه $7 \times 7 = 49$ و

$8 \times 8 = 64$. بزرگترین عدد را انتخاب کنید و

چندین ه یا علامت دیگر برای پر کردن خانه‌های

خالی پیام به آن بیفزایید .

البته تمام جدولهای رمز به آسانی این یکی

نیستند . بعضیها خیلی پیچیده‌اند . متخصصان هفته‌ها

و حتی ماهها زحمت می‌کشند تا آنها را می‌خوانند .

بنابراین در ستون بعد که $1+B+B$ مساوی ۵ شده است، B باید مساوی ۲ باشد، زیرا فقط $1+2+2=5$. اکنون مسئله حل شده است و ABC مساویست با ۱۲۵.

در اینجا مسئله دیگری در حساب رمزی ذکر می‌کنیم که خودتان حل کنید. اگر نتوانستید، جواب آن را وارونه در زیر همین مسئله می‌باید.

$$\begin{array}{r} DEF \\ DEF \\ \hline FGF \\ DEFE \\ \hline DDEGF \end{array}$$

جواب مسئله رمزی

$$\begin{array}{l} DDEGF = 11018 \\ DEF = 105 \\ D = 1, E = 0, F = 5 \end{array}$$

که وقتی که A ضرب در ABC می‌شود حاصل ضرب همان ABC می‌شود، و از اینجا می‌فهمیم که A باید مساوی ۱ باشد.

ما اکنون دورقم را یافته‌ایم: $A=1$ و $C=5$. مسئله را از نو می‌نویسیم و به جای A و C اعداد معادل آنها را می‌نویسیم، می‌شود:


$$\begin{array}{r} 1B5 \\ 1B5 \\ \hline DB5 \\ B5E \\ 1B5 \\ \hline 15DB5 \end{array}$$

به ستون وسط که در آن این جمع $D+5+5$ آمده است نگاه کنید. ما اکنون می‌دانیم که $D+10$ برابر است با D و مایک «ده بریک» داریم.

حسابگرهای الکترونیکی

جدید می‌توانند وضع هوا را پیش بینی نمایند، مالیات میلیونها نفر از مردم کشوری را بررسی کنند، حقوق هزاران کارگر را محاسبه نمایند، و کارهای بشمار دیگر را در جزء خیلی خیلی کوچکی از وقتی که برای انسان لازم است تا آنها را انجام دهد، انجام دهند.

ماشین حسابهای برقی در چند دقیقه، حتی بعضی مواقع در چند ثانیه، مسائلی را حل می‌کنند که ریاضیدانان باید هفته‌ها یا ماهها وقت صرف حل آن کنند. امروز این حسابگرها می‌توانند موشکها را راهنمایی کنند تا در هر نقطه‌ای از زمین فرود آیند، یا در مدار زمین، ماه یا خورشید قرار گیرند. همچنین حسابگرهای الکترونیکی می‌توانند در طرح و آزمایش هواپیماهای جدید کمک کنند، و بعد نیز پرواز آنها را در آسمانها هدایت کنند. این ماشینهای



يك حسابگر جديد عبارت از يك رشته وسايل پيچيده الكترونيكي است .

در اين تصوير (از چپ به راست) وسايل زير را مي بينيد: ماشين تحرير مخصوص ترجمه مسائل به زبان ماشين بر روي نوارها و كارتها . برنامه نويس ، كه مسائل را گرفته و به زبان ماشين برمي گرداند .


سلول حافظه سريع حسابگر ، در اينجا اطلاعات لازم جمع آوري شده است. مخزن حافظه، كه سلول حافظه مواد داده‌هاي مورد احتياج خود را از آن مي گيرد ، و بالاخره جريان الكترونك كه جواب را به ماشين تحريري كه بر روي ميز برنامه نويس است ديكته مي كند .

حسابگر رقمي و حسابگر قياسي

اصولاً دو نوع حسابگر وجود دارد : رقمي و قياسي . مراد از رقمي به كار بردن اعداد معمولي ما است ، كه هر يك بر مقدار معيني دلالت مي كند . بدست آوردن اينكه جمع ۶ و ۷ مي شود ۱۳ ، يك محاسبه رقمي است . هر رقمي معنایی دارد ولي واحد

يا معدود آن (خواه صندلي باشد يا موشك يا كيلو - متر) معين نيست .

اما در اندازه گيري قياسي ما اغلب با يك واحد اساسي سروكار داريم كه ممكن است كيلومتر يا متر يا ليتر باشد . مثلاً مي گوييم سه متر پارچه

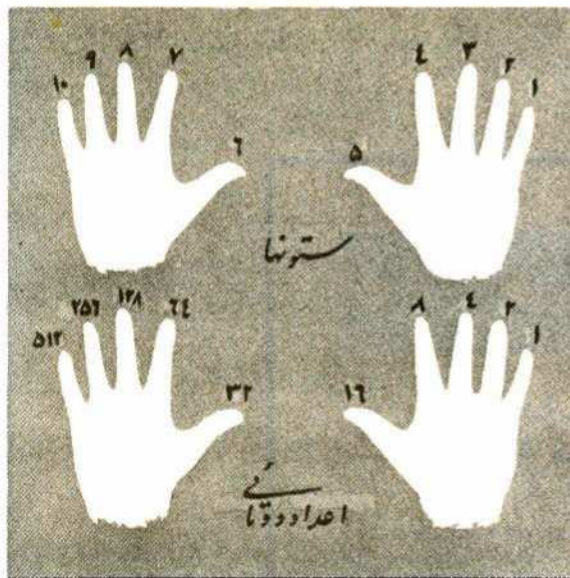


استوانه مغناطیسی ماشین حساب
معروف به «حافظه سریع» .

نوار مغناطیسی ضبط می‌کند . جواب ضبط شده بر نوار مغناطیسی به دو صورت ظاهر می‌شود : یا به ماشین تحریر مخصوص داده می‌شود تا علایم الکتریکی را به کلمات ترجمه کند . یا به ماشین خاص دیگری داده می‌شود و به صورت نمودار و نقشه نمایان می‌گردد .

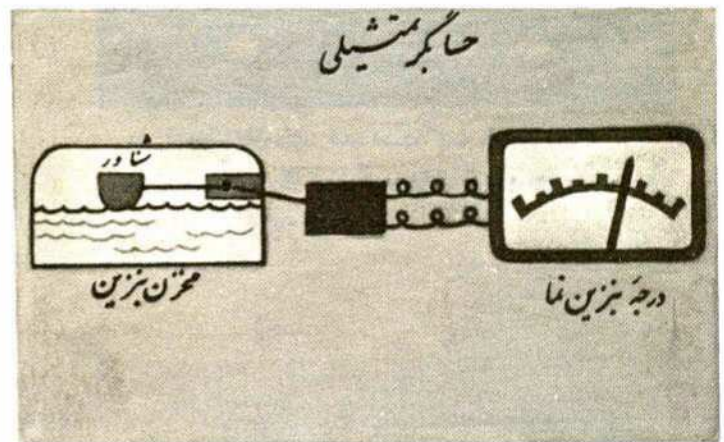
روش دوتایی چیست ؟

حسابگرها با دو روش مختلف ریاضی کار



در روش دو تایی وضع با ردیف ارزش خاصی دارد مثلا : ۱۰۰ در روش دو تایی به این معنا است که ۱ در ردیف سوم مساوی ۴ و صفر معنی خاصی ندارد . بنابراین ۱۰۰ در این روش مساوی ۴ است . اینک مثالی دیگر: ۱۰۱۱۰ در روش دوتایی یعنی ردیف پنجم مساوی ۱۶ است و ۱ در ردیف سوم مساوی ۴ و در ردیف دوم مساوی ۲ است . در این صورت $۲۲ = ۲ + ۴ + ۱۶$. بنابراین ، ۱۰۱۱۰ در روش دوتایی مساوی ۲۲ خواهد بود .


خریدیم یا يك كيلومتر ونیم راه پیمایی کردیم . در اینجا واحدی که ما بدان ارجاع می‌دهیم متر یا کیلو-متر است . و اعداد ۳ و ۱/۵ نشان می‌دهند که چه مقدار از واحدها مورد نظر است . حسابگرهای رقمی و قیاسی ساده که ما با آنها آشنا هستیم فراوان هستند . ماشین حساب ادارات و فروشگاهها يك حسابگر رقمی است . درجه مصرف بنزین اتومبیل يك حسابگر قیاسی است و نشان می‌دهد که چقدر از مخزن بنزین اتومبیل پر است .



ماشین حساب چگونه کار می‌کند ؟

چه در حسابگرهای رقمی و چه در حسابگر-های قیاسی متصدی ماشین دستورها (یا بنزبان حسابگر فرمانها) و شماره بر نامه را بر روی کارتها یا نوارهای مخصوص سوراخ می‌کند .


وقتی که نوار یا کارتها را در ماشین قرار می‌دهیم و دستگاه را روشن می‌کنیم ، تکانه‌های کوچک برق از سوراخهای نوار یا کارت گذشته به استوانه مغناطیسی شده یا حافظه سریع ماشین می - خورد . حسابگر اطلاعات را از روی استوانه می‌گیرد ، به مخزن حافظه مراجعه می‌کند ، و آنچه را به او داده‌اند تعبیر و تفسیر می‌کند . سپس محاسبات لازم را انجام می‌دهد ، و نتیجه را روی



در اینجا نشان داده شده است که اعداد (صفر تا ده) در روی صفحه یک حسابگر دو حالتی که دارای چهار چراغ است به نظر می‌رسند.

می‌کنند. بعضیها با همین اعداد معمولی دهدهی که ما با آنها سروکار داریم کار می‌کنند و بعضی باروش دوتایی.

هر چند اعداد دوتایی عجیب به نظر می‌رسند ولی طرز تشکیل آنها درست مثل اعداد دهدهی است. حسابگرهای دوتایی بر اساس آنچه مهندسين، مدار قطع و وصل می‌نامند کار می‌کنند؛ درست مانند کلید برق اتاق شما که دارای دو وضع قطع و وصل است. علامات یا اعدادی که برای این دو حالت به کار می‌رود 1 برای وصل و 0 برای قطع است. اگر شما یک رشته کلید برای قطع و وصل چراغهای دستگاه داشته باشید می‌توانید آنها را چنان با هم ترکیب کنید که اعداد متفاوتی بدست آید.



مسئله: اگر شما سه چراغ در روی یک حسابگر دو حالتی، به ترتیبی که در تصویر بالا نشان داده شده است ببینید می‌توانید بگویید ماشین چه عددی را نشان می‌دهد؟
جواب ۶۲۹ است.



ریاضیات عصر فضا

مسائل فضایی ریاضیات چیست؟

که این مقاومت بامربع سرعت افزایش می‌یابد. به این معنی که چون سرعت دو برابر شود مقاومت هوا چهار برابر می‌گردد. امروز می‌دانیم که اگر سرعت موشکی متجاوز از ۱۵ کیلومتر در دقیقه باشد، مقاومت هوادر برابر آن باقوه سوم سرعت افزایش می‌یابد. به عبارت دیگر هر بار که سرعت موشک پس از رسیدن سرعت آن به ۱۵ کیلومتر در دقیقه دو برابر شود، مقاومت هوا ضرب در ۸ می‌شود.

اگر وقتی که موشک آتش می‌شد زمین ثابت می‌ماند محاسبه مسیر آن مسئله ساده‌ای بود. اما زمین پیوسته در حرکت است. زمین نه تنها به دور محور خود می‌گردد، بلکه در همان حال در مدار بیضی‌شکلی به دور خورشید نیز حرکت می‌کند. بنابراین ضروری است که مسیر موشک از سه جهت مورد محاسبه قرار گیرد :


مسائلی که در اکتشافات عصر فضا وجود دارد بسیار است. حل پاره‌ای از آنها مربوط به - روانشناسان، شیمیدانها، فیزیک‌دانها و دانشمندان زیست شیمی است؛ ولی حل بسیاری دیگر در دست ریاضیدانان می‌باشد. سه تا از مسائلی که ریاضیدانها را مشغول کرده است، از این قرار است: محاسبه تغییر مقاومت هوا بر روی يك موشک؛ برآورد تأثیر حرکت وضعی زمین بر روی مسيريك موشک یا ماهواره؛ تعیین سرعت اولیه و نیروی آنی برای مقابله باکشش جاذبه زمین. موشکی که با سرعت هوای جو زمین را می‌شکافد با نیروی مقاومتی شبیه آنچه يك زیر دریایی در حال شکافتن آبهای عمیق اقیانوس با آن روبه‌رواست مواجه می‌شود. هرچه موشک سریعتر حرکت کند مقاومت هوا در برابر آن بیشتر خواهد بود. از خیلی پیش می‌دانستند



بدون جاذبه زمین مسیر موشک چون خط مستقیمی از پایگاه به طرف بالا می‌بود .

از جهت گردش؛ از جهت مقاومت هوا؛ از جهت
 قوه جاذبه زمین .

پرتاب يك موشك به فضا مستلزم آگاهی به ریاضیات دقیقی است .



بكمك حسابگرهای الكترونيكي رياضيدانها با دقت
مسير پرواز و افزايش سرعت را محاسبه مي کنند .



چگونه قوه جاذبه در پرواز اثر مي گذارد ؟
ما دقيقاً نمي دانيم قوه جاذبه چيست، و آلبرت
اينشتين در نظريه نسبيت خود ابدآ آن را به كار نبرده
است. اگر جاذبه نبود، ما مي توانستيم موشكي را آتش
كرده و در يك مسير مستقيم به هوا بفرستيم .
اما اكنون مي دانيم كه هر چه به فضا پرتاب شود
يا در فضا رهاگردد به پايين خواهد افتاد . همچنين
مي دانيم كه يك شيئي را چه در هوا رها كنيم ، و چه
پرتاب كنيم، مدت زماني كه براي رسيدن آن به زمين
وقت لازم است يكي است . ايزاك نيوتن فرمول


متراست . این آگاهی به ما کمک می کند که ماهواره را در آسمان نگهداریم .

اجازه دهید محاسبات ریاضی لازم را برای نگهداشتن يك ماهواره در ارتفاع ۱ کیلومتری زمین به طور اجمال از نظر بگذاریم .

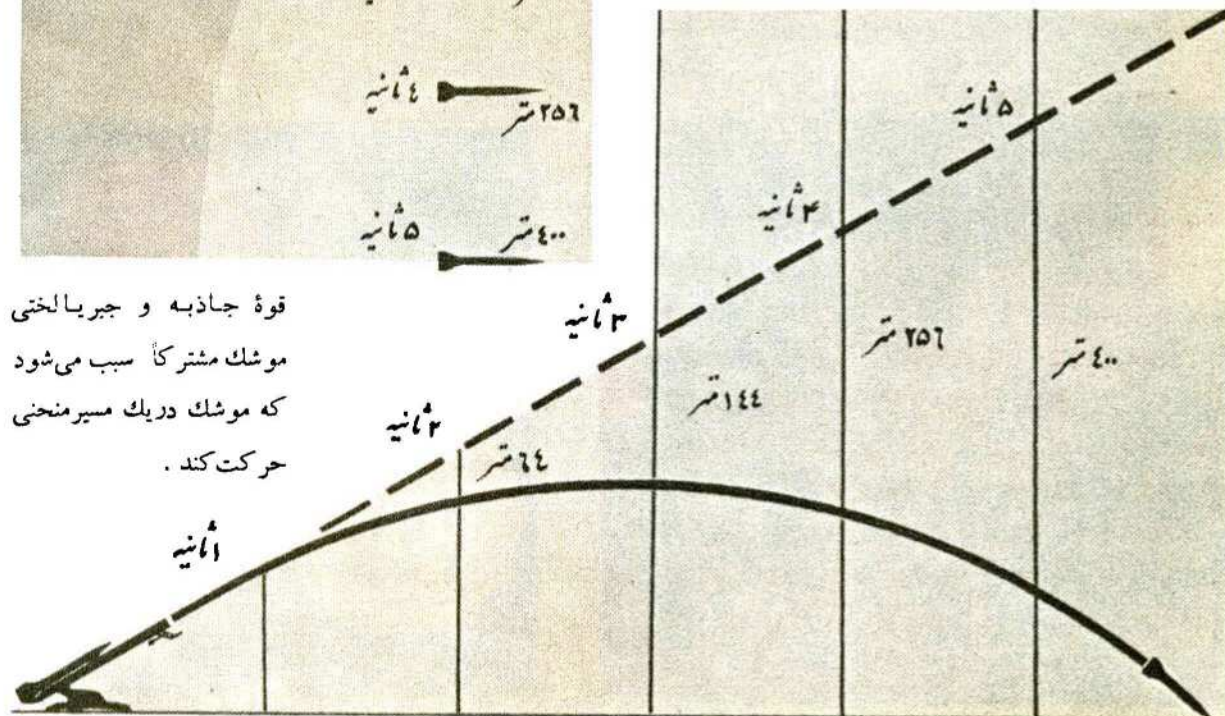
ماهواره به محض قرار گرفتن در يك کیلومتری زمین تحت تأثیر دو نیرو قرار می گیرد : یکی شتاب خودش که آن را به طرف جلومی راند، دیگری نیروی جاذبه زمین که آن را به طرف پایین می کشد .

برای آنکه محاسبه را ساده کنیم سرعت آن را به جلو ۱ کیلومتر در ثانیه فرض می کنیم .

در ۱۱ ثانیه اول ماهواره ۱۱ کیلومتر در امتداد افق به جلو می رود و يك کیلومتر به طرف زمین کشیده می شود . اگر زمین مسطح می بود ماهواره بعد از ۱۱ ثانیه در فاصله يك متری محل پرتاب به زمین اصابت



قوة جاذبه و جبريالختی موشك مشتركاً سبب می شود که موشك در يك مسیر منحنی حرکت کند .



ریاضی دقیقی برای اندازه گیری نیرویی که بر يك جسم ساقط وارد می شود ، بدست آورد ، و آن را جاذبه نامید . آن فرمول این است:

$$s = \frac{1}{2}gt^2$$

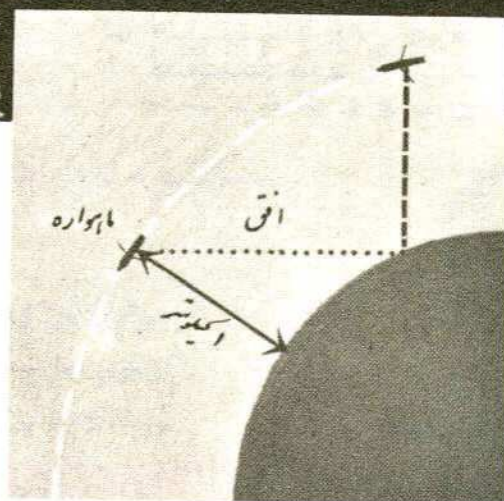


که در آن S فاصله شیئی سقوط -

کننده تا زمین، t زمان، و g شتاب یا افزایش سرعت در نتیجه جاذبه زمین است، و این افزایش ۹/۷ متر در ثانیه برای هر ثانیه سقوط است .

این فرمول را برای موشکی که از پایگاهی واقع بر يك کوه خیلی بلند پرتاب شده است به کار ببرید . نمودار زیر نشان می دهد که موشك اگر حرکت روبه پیش نداشت تحت تأثیر جاذبه زمین چگونه سقوط می کرد .

چه چیز يك ماهواره را در آسمان نگه می دارد ؟

اصل اساسی جاذبه هم بر ماهواره وهم بر موشکی که ماهواره را به فضا می برد اثر می گذارد . بنا بر قانون جاذبه نیوتن سقوط جسم در حدود هر ۱۱ ثانیه يك کیلو-



به محض قرار گرفتن ماهواره در مدار زمین، دنیو بر آن اثر می‌گذارد: جبر یا لختی جسم آن، و قوه جاذبه زمین. نتیجه این دنیو مسیر ماهواره را به وجود می‌آورد.

کروی زمین قرار گیرد. برای این منظور، ماهواره باید در هر ثانیه با سرعت ۸ کیلومتر در امتداد افق حرکت کند تا پس از ۱۱ ثانیه به نقطه‌ای برسد که فاصله‌اش از زمین ۱ کیلومتر باشد. این سرعت برابر ۲۸۸۰۰ کیلومتر در ساعت است.

حتی با این سرعت ما نمی‌توانیم حرکت ماهواره را تضمین کنیم، زیرا مقاومت هوا را به حساب نیاورده‌ایم. گذشته از این برای جلوگیری از سوختن ماهواره ما مجبوریم آنرا به ارتفاع ۱۶۰ کیلومتری زمین پرتاب کنیم زیرا در این قسمت از جو هوا رقیقتر و در نتیجه اصطکاک و حرارت کمتر است.

سرعت لازم برای ورود ماهواره به مدار ۲۸۸۰۰ کیلومتر در ساعت.

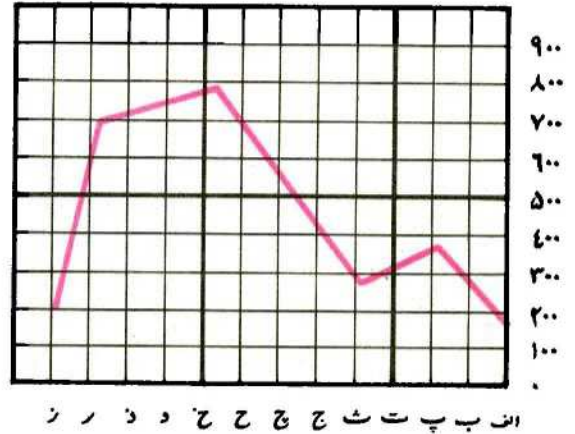
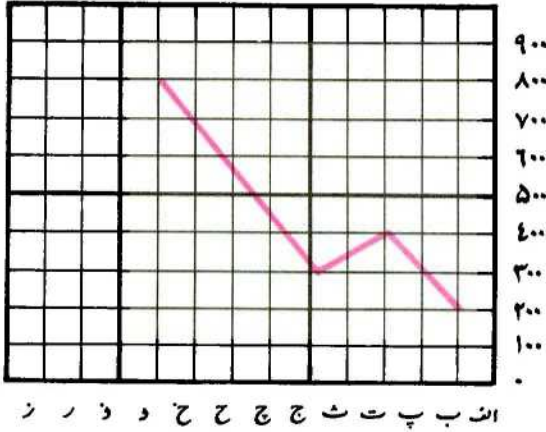
می‌کرد. اما چون زمین گرد است، اندکی بیش از یک ثانیه طول می‌کشد تا به زمین اصابت نماید.

مسئله اینست که تعیین کنیم ماهواره با چه سرعتی باید حرکت کند تا به زمین نیفتد و در مدار زمین قرار گیرد. ما می‌دانیم که ماهواره هر ۱۱ ثانیه ۱ کیلومتر به طرف زمین کشیده می‌شود، بنابراین سرعت آن باید آنقدر زیاد باشد که پیوسته یک کیلومتر بالای سطح

نمودار چیست؟

نمودار می‌تواند اعداد مثبت و منفی را مثل بهره‌ها و زیانها، یا درجه‌های بالای صفر و زیر صفر به‌مانشان دهد. آمارگران برای آنکه پیام یا مطلبی را به ساده‌ترین صورت بیان کنند از نمودارها استفاده می‌کنند.


رنه دکارت ریاضیدان فرانسوی اولین کسی بود که نمودار را به‌کار برد. نمودار نقشه یا رسمی است که با خطوط و ارقام و محورها و دوائر خود داستانی را برای ما بازگویی کند.



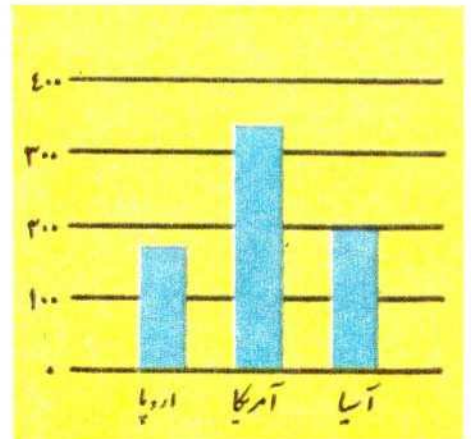
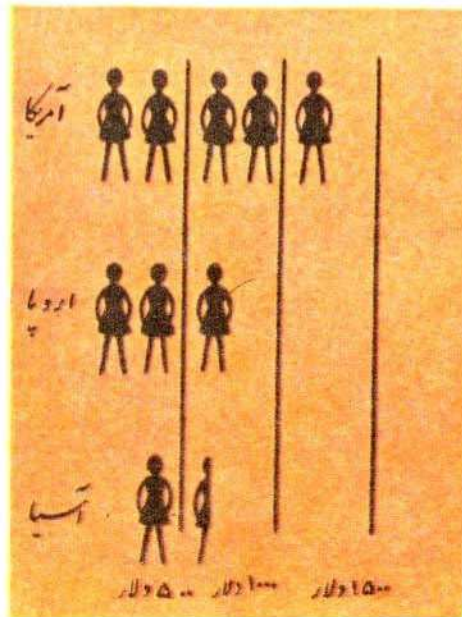
«وضع دادوستد چطور است؟» این خطوط جواب آن است.



يك نمودار مصور اطلاعات اساسی را به وسیله تصویر می‌نمایاند.



يك نمودار مدور جزئی از كل را نشان می‌دهد.



این نوع نمودار برای مقایسه دو، سه، یا چند چیز به‌کار می‌رود.

شانس شما تا چه اندازه است ؟

احتمال چیست ؟

وقتی که شما سکه‌ای را به هوا می‌اندازید یا به صورت شیر یا به صورت خط به زمین خواهد افتاد. اکنون اگر شما سکه‌ای را به هوا افکنید، شانس شما در اینکه سکه از روی شیر به زمین افتد چقدر است؟ فرض کنید شما دو سکه را در آن واحد به هوا بیفکنید، شانس یا احتمال اینکه هر دو شیر باشند چیست ؟ آیا شانس شما در دو مورد یکی است؟

اگر فقط یک سکه را به هوا بیندازید یا شیر است یا خط . یا به اصطلاح ریاضیدانها احتمال شیر بودن آن $\frac{1}{2}$ ، یا یکی از دو حالت است ، یا یک احتمال از دو احتمال است.

از طرف دیگر اگر شما دو سکه را با هم به هوا بیندازید ممکن است مطابق تصویر به چهار وضع به زمین بنشینند: دو شیر، یک شیر و یک خط، یک خط و یک شیر ، یا هر دو خط . به تصویر توجه نمایید:

برای هر سکه از این دسته یکی از چهار شانس وجود دارد. برای ۲ شیر احتمال $\frac{1}{4}$ یا یک از چهار




رنگ نارنجی بجای شیرها و زرد بجای خطها است.

است ، برای دو خط احتمال $\frac{1}{4}$ یا یک از چهار است، و برای یک شیر و یک خط احتمال $\frac{2}{4}$ یا $\frac{1}{2}$ یعنی یک از دو است.

آیا خوش شانس هستید ؟

وقتی که حدس می‌زنید که هر دو سکه شیر خواهد بود، در حقیقت با اتکاء به شانس این حرف را زده‌اید، زیرا برای این حدس دلیلی وجود ندارد. ولی آمار-گران حدس را در احتمالات به کار می‌برند.

اگر سه سکه را در یک آن به هوا بیندازید چطور می‌شود ؟ احتمال شیر یا خط افتادن آنها به صورت زیر خواهد بود. ۸ حالت ممکن است که پیش



رنگ نارنجی بجای شیرها و زرد بجای خطها است.

بیاید . امکان شیر بودن هر سکه $\frac{1}{2}$ یا یک از هشت است؛ عین همین موضوع در مورد سه خط نیز صدق می‌کند. ولی امکان ۲ شیر و یک خط $\frac{3}{8}$ و امکان ۲ خط و یک شیر هم $\frac{3}{8}$ خواهد بود.

چنانچه خواستید با تعداد سکه‌های بیشتری به شیر و خط ادامه دهید امکانات هر دسته را می‌توانید تعیین کنید.

مثث پاسکال چیست ؟

ریاضیدانان احتمالات یا شانسهای یک دسته نامحدود را بر آورد کرده‌اند. این امکانات معمولاً در یک شکل مثلثی نمایش داده می‌شوند که معروف است به مثث پاسکال. برای پیدا کردن شانس خود به اعدادی که قاعدۀ مثلث را در هر مرتبه وجود می‌آورند

احتمال بردن شما در هر دو دست $\frac{1}{4}$ یعنی یک از چهار است.

این احتمال برای بردن یک دست بازی $\frac{2}{4}$ یا $\frac{1}{2}$ یا یک از دو می باشد.

بالاخره احتمال باخت شما در هر دو دست بازی $\frac{1}{4}$ یا یک از چهار خواهد بود.

اگر امکانات ۸ دست بازی را خواستید به خط هشتم مراجعه کنید و در این صورت خواهید دید که احتمال اینکه در هر هشت دست بازی برنده شوید $\frac{1}{256}$ یا یک از دو بیست و پنج است. در مثلث پاسکال اعداد طرح جالبی دارند. زیرا هر عددی مساوی حاصل جمع دو عدد فوقانی خود می باشد.

				۱															
					۱														
						۱													
							۱												
								۱											
									۱										
										۱									
											۱								
												۱							
													۱						
														۱					
															۱				
																۱			
																	۱		
																		۱	
																			۱

مراجعه کنید. برای مثال:

اگر قرار است با کسی که به مهارت خودتان است دو دست تنیس بازی کنید شانس شما برای موفق شدن هر دو دست چقدر خواهد بود؟ به خط دوم مثلث (از بالا) نگاه کنید. مطابق قانون شانس که در مثلث پاسکال بیان گردیده شانس یا

ریاضیات جدید

و تقریباً از هر طریقی تغییر یابد اما گسیخته نگردد. می گویند چون تمام اجزای که دارای سوراخ باشند از نظر توپولوژیست یکسان هستند، ریاضیدان نمی تواند بین چرخ اتومبیل و کلوچه حلقوی فرق بگذارد.


حلقه مویوس چیست؟

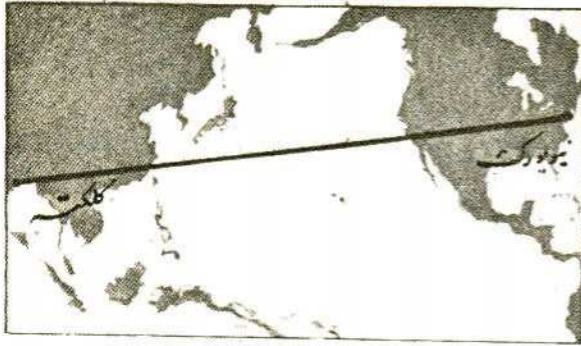
این یک نمونه ساده از توپولوژی است. دو تکه کاغذ را به پهنای ۲ و درازای ۲۰ تا ۳۰ سانتی متر ببرید و

امروز سریعترین پیشرفت‌ها و اساسی‌ترین تغییرات در این همه علوم، از آن ریاضیات است. ریاضی تنها دانشی است که بیشتر فرضیات آن از ۲۰۰۰ سال قبل تا کنون معتبر است، و در آن هنوز هم برای اندیشه‌های نو ورشته‌های جدید جاهست.

توپولوژی یا مکان‌شناسی چیست؟

یکی از پر بارترین شاخه‌های ریاضی در عصر ما توپولوژی است که صورتی از هندسه می باشد. توپولوژی دور شدن از هندسه اقلیدسی است که در آن طولها و زوایا و شکلها هرگز تغییر نمی کردند. در توپولوژی اندازه مورد نظر نیست بلکه فقط شکل مورد نظر است. و شکل می تواند دتا شود، کشیده شود، جمع گردد، خم شود،






افریقا ، دریای عربستان و هندوستان می گذرد .
ولی جهان مسطح نیست در نتیجه اگر شما
بخواید کوتاهترین فاصله بین این دو نقطه را در کره
پیدا کنید می بینید که مسیر آن از کانادا ، گرین لند ،
اقیانوس منجمد شمالی ، اروپا ، سیبری شوروی ،
تبت و نپال می گذرد تا به هند برسد. این خط راه منحنی



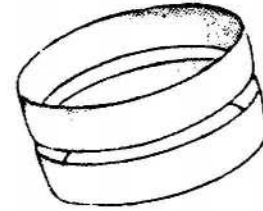
بزرگ نامیده می شود ، و در حقیقت خط مستقیم عجیبی
است زیرا با انحناء زمین انحناء می پذیرد .

در مورد محالات چه می کنید ؟
در اینجا مسئله ای را ذکر می کنیم که با ریاضیات
معمولی حل نمی شود .


سه خانه نزدیک هم قرار دارند . هر یک از این
خانهها را طوری به منبع آب ، گاز و برق وصل کنید که



یک خط از درازا در وسط آنها رسم کنید . یک تکه از
این کاغذها را برداشته و دو سرش را با نوار چسب یا



چسب بهم بچسبانید . بایک قیچی دایره را در امتداد
خط وسط آن ببرید . دو حلقه بدست می آید . حالا
تکه کاغذ دیگر را بردارید . یک پیچ به آن
بدهید و دو سرش را بهم بچسبانید . قیچی را برداشته
در امتداد خط وسط آن ببرید . چه بدست می آید ؟
یک دایره بزرگ ! این حلقه مویوس است ، و نام آن
از اسم منجم مشهور اوایل قرن نوزده آلمان ، اگوست

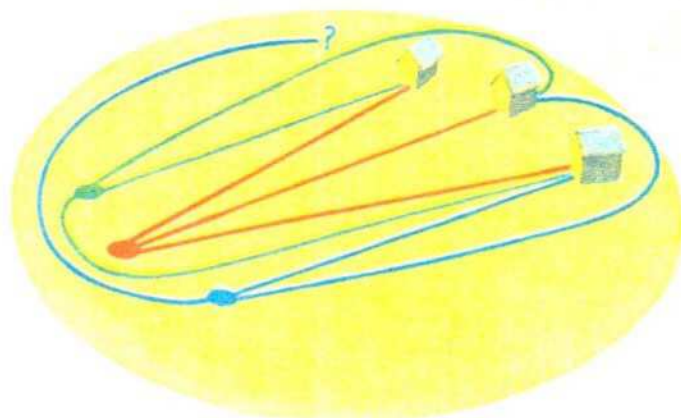


فردیناند مویوس ، گرفته شده است که اولین کسی بود
که در خواص عجیب توپولوژی تحقیق کرد .


در چه وقتی خط راست ، خط راست به حساب
نمی آید ؟

ریاضیدانان خط راست را به کوتاهترین فاصله
بین دو نقطه تعریف کرده اند . اگر شما به نقشه مسطح
جهان نگاه کنید و برای پیدا کردن کوتاهترین راه بین
نیویورک و کلکتہ (در هندوستان) خط مستقیمی بکشید ،
خواهید دید که این راه از اقیانوس اطلس ، مراکش ،

این جواب مستلزم ریاضیات توپولوژی است . بدتجربه معلوم شده است که نقشه هر چه پیچیده باشد و تعداد کشورها هر قدر زیاد باشد ، و طرز قرار گرفتن آنها هر طور باشد ، می توان نقشه را فقط با چهار رنگ متفاوت رنگ کرد . اما تا بحال هیچ ریاضی دانی موفق به ارائه دلیل ریاضی برای اثبات آن نشده است .

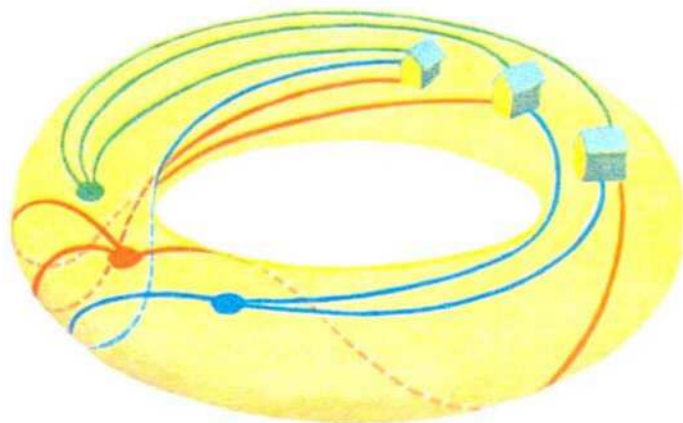


خطوط اتصال یکدیگر را قطع نکنند . با هندسه مسطحه اقلیدسی به مرحله ای می رسم که در شکل نشان داده شده است . همه خطوط اتصال ، جزیکی را می توان ترسیم کرد . شما می توانید امکانات دیگر را خودتان امتحان کنید و ببینید که آیا می شود مسئله را حل کرد ؟
با استفاده از ریاضیات توپولوژی حل این مسئله چنانکه در شکل نشان داده شده فوق العاده آسان است . به جای سطح هموار یا مستوی سطح حلقوی به کار می بریم .



ریاضیات تا کجا به پیش می رود ؟

ریاضی بخشی اصلی از میراث فرهنگی جهان ما است . رشته های جدید و فرمولهای تازه به وجود می آیند . هندسه غیر اقلیدسی ، جبر توپولوژی ، جبر ماتریکس ، برنامه نویسی خطی ، احتمالات ، نظریه بازی ، کشف و توسعه یافته است . در عصر ما که عصر فضا است تنها ریاضیات عملی دستخوش تغییر و دگرگونی نیست ، بلکه ریاضیات نظری نیز چنین است . هنوز در این رشته خاص از علم چیزهای نو فراوان در پیش است . شاید روزی یکی از شما هم به کشف بزرگی در دنیای ریاضی نایل آید .



برای رنگ کردن يك نقشه به چند رنگ احتیاج دارید ؟

در رنگ کردن نقشه ها معمول این است که برای ممالکی که مرز مشترکی دارند رنگهای متفاوت به کار می برند . حداقل رنگهایی که يك نقشه کش برای رنگ کردن نقشه خود بدان احتیاج دارد چند است ؟

علم برای کودکان و نوجوانان



منتشر شده است:

علوم پایه
فکر می کنی کیستی؟
جانوران وحشی
افسون و اژهها
کشفهای شگفت انگیز ارشمیدس
صداهایی که نمی شنویم
ابزارهای دانشمندان
ابزارهای اندازه گیری
کامپیوتر در خدمت شما
آب و هوا
شگفتیهای ریاضیات
شگفتیهای شیمی
انسان نخستین
صوت
ستارگان
ماشینها
شهرهای گمشده
اکتشافات جغرافیایی
سنگها و مواد کانی
درختان
آهنربا و مغناطیس
سنگوارهها
زمین آلوده
دینوسورها

میکروسکپ
دانشمندان نامی
رشد
بدن انسان
موتور و ماشین
کره زمین
نور و رنگ
آتشفشان
نخستین جانداران زمینی
نخستین انسانهای زمینی
زمستانخواهها

منتشر می شود:

الکتریسته
الکترونیک
جانوران منقرض شده
از غار تا آسمان خراش
بوم شناسی
حشرات
زمین ما
هواپیما و داستان پرواز
انرژی اتمی
سرگذشت چرخ
ماهیان
باله
عصر خزندگان و دوزیستان
جنگ جهانی اول
جنگ جهانی دوم
پول
پروانهها و شب پرهها
پستانداران

بها: ۱۶۰ ریال